

NOM : .....



**Je sais lire et écrire des nombres jusqu'à 1000.**

1. Lis les nombres suivants.

345 – 709 – 126 – 86 – 532 – 890 – 507 – 341 – 630 – 402

2. Classe les nombres des séries suivantes dans l'ordre croissant.

450 – 540 – 504 – 405 – 45 – 54 : .....

670 – 76 – 607 – 706 – 67 – 760 : .....

320 – 32 – 23 – 203 – 230 – 203 : .....

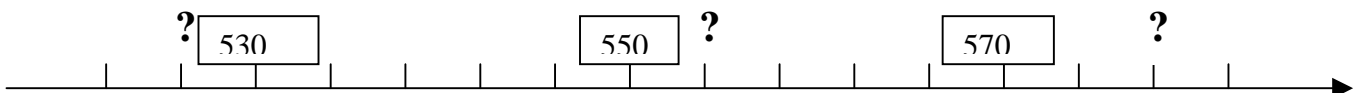
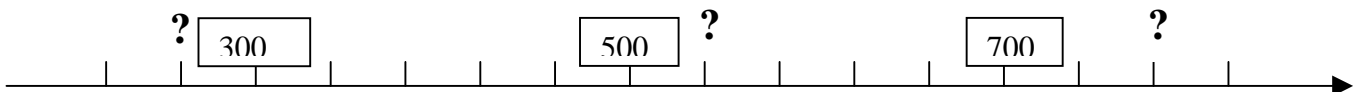
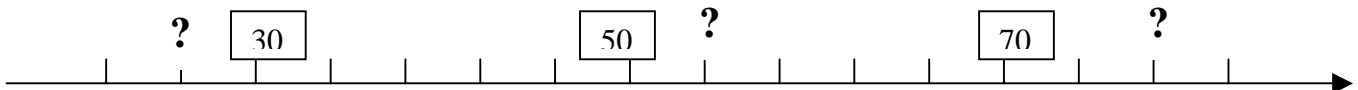
3. Complète les séries de nombres.

450 – 454 - ..... - ..... - 466 - .....

621 - ..... - ..... - 627 – 629 - .....

..... - 357 – 361 - ..... - 369 - .....

4. Quels sont les nombres cachés ?



5. Ecris en chiffres les nombres ci-dessous donnés en lettres.

Trois cent quatre-vingt-six : .....

Nonante-cinq : .....

Deux mille cinq cent quarante-trois : .....

6. Ecris les nombres suivants dans l'abaque puis hors de l'abaque.

C	D	U

4 dizaines et 1 centaine = .....

2 unités, 5 dizaines et 8 centaines = .....

6 unités et 3 centaines = .....