

NOM (3-4): .....



### Je mesure le temps.

1. Complète les phrases.

L'année civile commence le ..... et s'achève le .....

L'année scolaire commence le ..... et se termine le .....

Cette année nous sommes dans l'année scolaire ..... - .....

Nous sommes aujourd'hui le ..... Je peux aussi l'écrire .../.../...

2. Complète les égalités.

1 an = ..... semaines = ..... jours

1 semaine = ..... jours

1 jour = ..... heures

2 jours = ..... heures

1/2 jour = .....heures

1 heure = .....minutes

2 heures = .....minutes

1/2 heure = .....minutes

1/4 heure = .....minutes

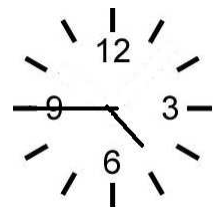
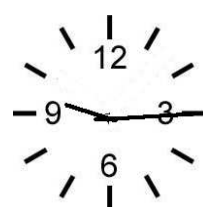


3/4 d'heure = .....minutes

1h 1/2 = .....minutes

3. Complète le tableau.

Les mois de 30 jours	Les mois de 31 jours
Il y a une exception :	


4. Quelle heure est-il . si c'est le matin ? Et si c'est l'après-midi ?




5. A toi ! Dessine les aiguilles.




5 : 00




minuit



15 : 15





3 h moins quart



8 h et demie

6. Voici un horaire de train.

Gare/Arrêt	Date	Arr.	Dép.	Voie	Produits	Remarques
<a href="#">Courrière</a>	27/09/10		09:17	2	 <a href="#">L 5779</a>	Direction: Namur
<a href="#">Namur [B]</a>		09:37		11		
<a href="#">Namur [B]</a>			09:51	5	 <a href="#">IC</a>	Direction: Bruxelles Midi
<a href="#">Bruxelles-Central [B]</a>		10:53		4	<a href="#">2430</a>	

Ce voyage en train est prévu quel jour ? \_\_\_\_\_

Quelle est la gare de départ ? \_\_\_\_\_

Quelle est la gare d'arrivée ? \_\_\_\_\_

Quels sont les renseignements indiqués dans les colonnes suivantes ?

arr. = \_\_\_\_\_

Dép. = \_\_\_\_\_

Voie = \_\_\_\_\_

Produits = \_\_\_\_\_

A quelle gare faut-il changer de train ? \_\_\_\_\_

Sur quel quai devra-t-on se rendre ? \_\_\_\_\_

Quelle sera la direction de train indiquée ? \_\_\_\_\_