

NOM :



Je lis l'heure.

1. Place les aiguilles sur les cadrans.



8h30



9h20




10h30



11h20



12h10



13h10



14h00

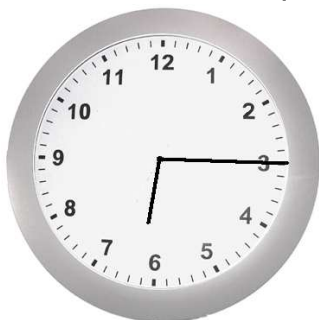


14h50


2. Complète le tableau suivant.

La grande aiguille est sur le ...	Nombre de minutes ...
1	...
2	...
4	...
5	...
8	...
10	...
12	...


3. Quelle heure est indiquée par les cadrans ?



Matin
Après-midi



.....
.....



.....
.....