

NOM (4):



Je mesure le temps.

1. Complète les phrases.

L'année civile commence le et s'achève le

L'année scolaire commence le et se termine le

Cette année nous sommes dans l'année scolaire -

Nous sommes aujourd'hui le Je peux aussi l'écrire .../.../...

2. Complète les égalités.

1 an = semaines = jours

1 semaine = jours

1 jour = heures

2 jours = heures

1/2 jour =heures

1 heure =minutes

2 heures =minutes

1/2 heure =minutes

1/4 heure =minutes

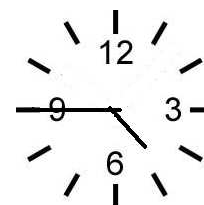



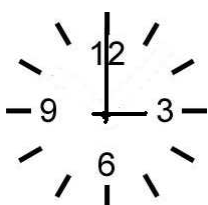
3/4 d'heure =minutes

1h 1/2 =minutes

3. Complète le tableau.

Les mois de 30 jours	Les mois de 31 jours
Il y a une exception :	

4. Quelle heure est-il . si c'est le matin ? Et si c'est l'après-midi ?



⌋
⋮
⌋

⌋
⋮
⌋

⌋
⋮
⌋

⌋
⋮
⌋

⌋
⋮
⌋

⌋
⋮
⌋

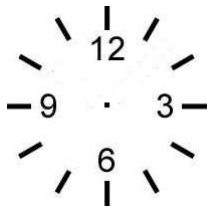
⌋
⋮
⌋

⌋
⋮
⌋

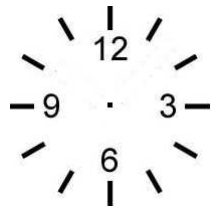
⌋
⋮
⌋

⌋
⋮
⌋

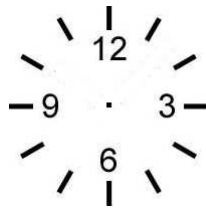
5. A toi ! Dessine les aiguilles.




5 : 00



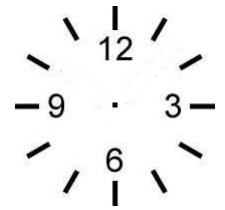
minuit



15 : 15





3 h moins quart



8 h et demie

6. Voici un horaire de train.

Gare/Arrêt	Date	Arr.	Dép.	Voie	Produits	Remarques
Courrière	27/09/10		09:17	2	 L 5779	Direction: Namur
Namur [B]		09:37		11		
Namur [B]			09:51	5	 IC 2430	Direction: Bruxelles Midi
Bruxelles-Central [B]		10:53		4		

Ce voyage en train est prévu quel jour ? _____

Quelle est la gare de départ ? _____

Quelle est la gare d'arrivée ? _____

Quels sont les renseignements indiqués dans les colonnes suivantes ?

arr. = _____

Dép. = _____

Voie = _____

Produits = _____

A quelle gare faut-il changer de train ? _____

Sur quel quai devra-t-on se rendre ? _____

Quelle sera la direction de train indiquée ? _____