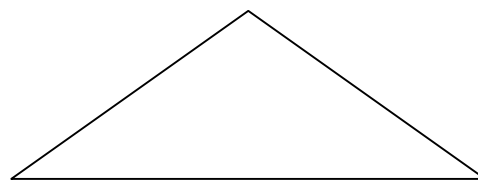
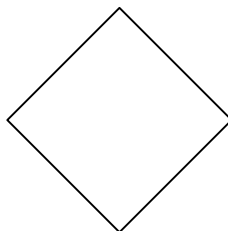
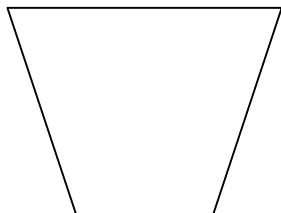




NOM (6) :

Je trace des polygones avec des parallèles et des perpendiculaires.


★ 1. Ecris le nom le plus précis que tu peux donner aux figures suivantes.



★ 2. Trace avec précision les figures demandées.

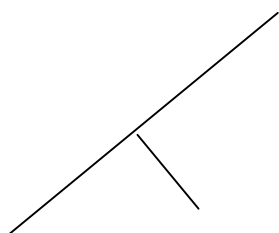
Un losange (sans tracer ses diagonales)

Un rectangle dont voici un côté



Un parallélogramme dont voici un côté et une hauteur

Deux triangles différents dont la hauteur mesure 2 cm qui auront la même base que voici



★ 3. Complète les définitions demandées.

Un rectangle est un parallélogramme qui a

Un triangle équilatéral est un triangle qui a


Un trapèze est un polygone qui a et

Un hexagone régulier est un polygone qui a et

Un losange est un polygone dont les diagonales sont et

☆ 4. Dessine un pentagone régulier dans un disque de 5 cm de diamètre.

5. Voici une peinture. En connais-tu le peintre ? oui - non



Ce peintre est né en **1872** et est mort en **1944**. Trace sa vie sur cette ligne du temps.

Dans quelle période de l'histoire a-t-il vécu ? Justifie ta réponse :

Est-ce que tes grands-parents auraient pu le rencontrer ? oui – non. Pourquoi ?
.....

Est-ce que tu aurais pu le rencontrer ? oui – non. Pourquoi ?
.....