

# ÉPREUVE EXTERNE COMMUNE

## ÉVEIL – FORMATION HISTORIQUE ET GÉOGRAPHIQUE

VERSION 2 – POLICE ARIAL 14

# CEB 2012

## LIVRET 7 : jeudi 21 juin

Prénom : .....

Nom : .....

N°: .....

..... / 50

# LES ÉOLIENNES

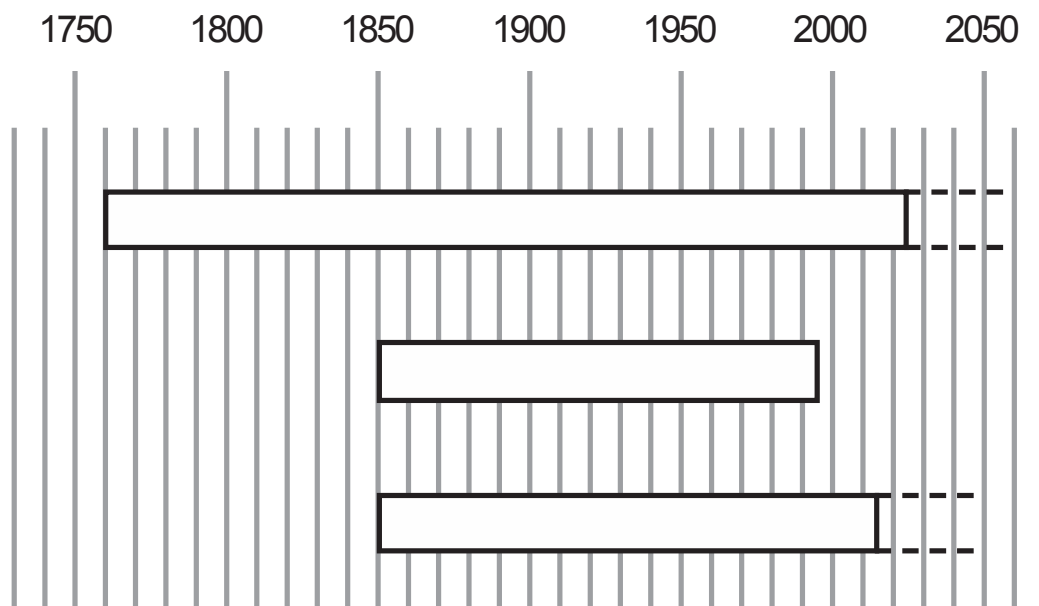
→ PORTFOLIO  
P. 10-11

## QUESTION 1

- a) Situe les informations des documents A, B, C, E :  
**ÉCRIS** chaque lettre dans la ou les case(s) qui convien(nen)t.

QUAND ?	OÙ ?	
	En Europe	Ailleurs dans le monde
5 <sup>e</sup> siècle		
6 <sup>e</sup> siècle		
7 <sup>e</sup> siècle		
8 <sup>e</sup> siècle		
9 <sup>e</sup> siècle		
10 <sup>e</sup> siècle		
11 <sup>e</sup> siècle		
12 <sup>e</sup> siècle		
13 <sup>e</sup> siècle		
14 <sup>e</sup> siècle		
15 <sup>e</sup> siècle		
16 <sup>e</sup> siècle		
17 <sup>e</sup> siècle		
18 <sup>e</sup> siècle		
19 <sup>e</sup> siècle		
20 <sup>e</sup> siècle		
21 <sup>e</sup> siècle		

b) Sur cette ligne du temps, **COLORIE** la bandelette qui correspond au document D.



/ 1

c) **COMPLÈTE.**

→ **PORTFOLIO**  
**P. 11**



Ce type d'éolienne sert actuellement à \_\_\_\_\_

/ 1

d) À quoi ont servi les moulins à vent dans le passé ?  
**ÉCRIS** trois usages différents.

---

---

---

## QUESTION 2

Voici trois communes où l'on trouve des éoliennes. Situe-les sur la carte ci-dessous en tenant compte des renseignements donnés.

**ÉCRIS** le numéro de ces trois communes dans l'étiquette qui convient sur la carte.

1

Commune de PERWEZ, dans la province du Brabant wallon, à l'est.

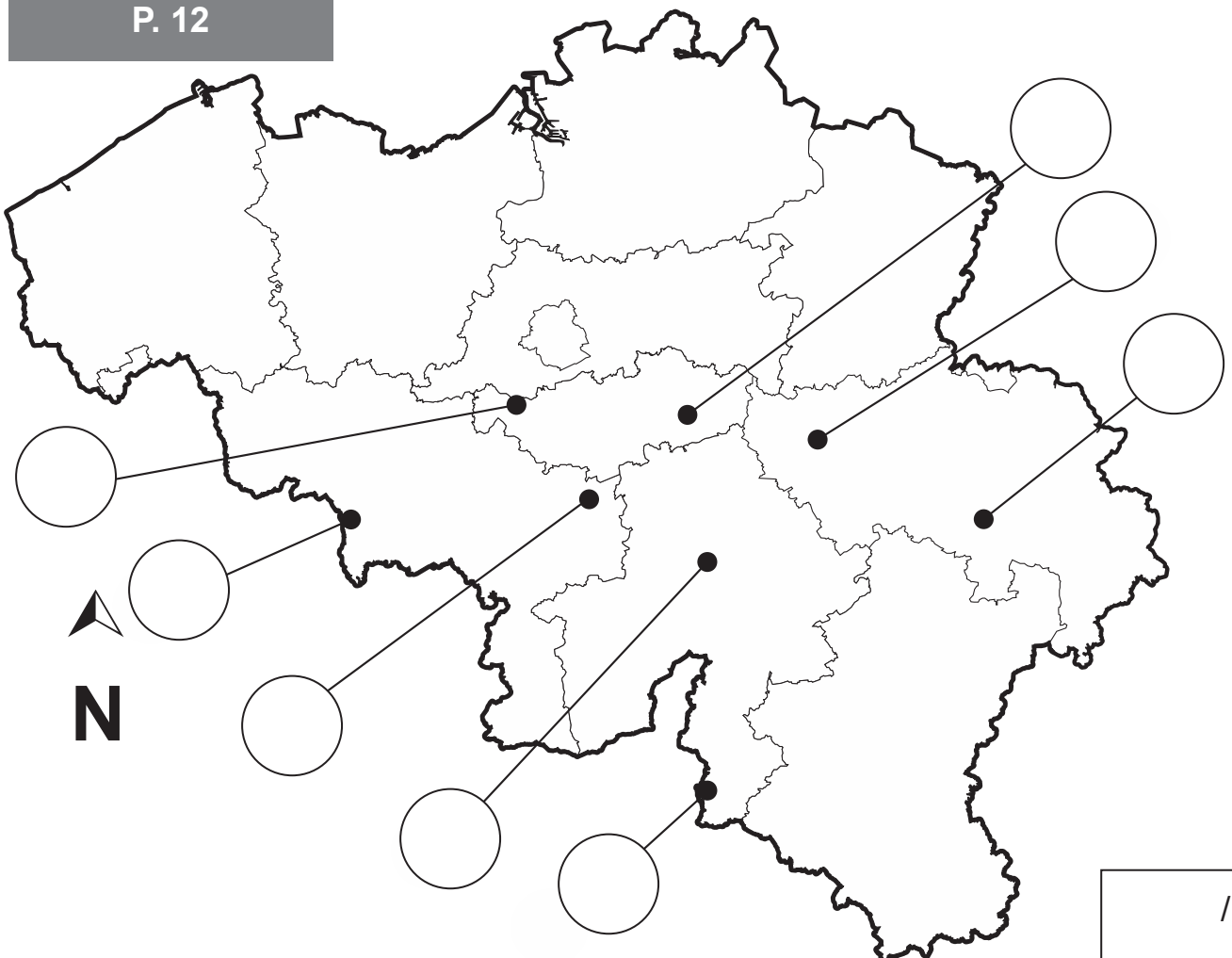
2

Commune de VILLERS-LE-BOUILLET, dans la province de Liège, à l'ouest.

3

Commune de DOUR, dans la province du Hainaut, très près de la frontière française.

→ PORTFOLIO  
P. 12



### QUESTION 3


Voici une photo de Bastogne en page 13 du portfolio.

a) **SOULIGNE** la proposition qui correspond le mieux à la photo.

- Photo au sol
- Photo aérienne

/ 0,5

→ PORTFOLIO  
P. 13



b) Identifie une composante du paysage pour chaque endroit :  
**COMPLÈTE** le tableau.

Le numéro sur l'illustration	Des composantes du paysage
1	
2	
3	
4	

/ 4

# CARTES MÉTÉO

→ PORTFOLIO  
P. 14

## QUESTION 4

Observe la carte satellite montrant les masses nuageuses (en orange) au-dessus de l'Europe.

**Parmi les 12 pays suivants** : Belgique, Allemagne, Suisse, Italie, France, Pologne, Espagne, Autriche, Portugal, Irlande, Danemark, Royaume-Uni,

**CHOISIS** et **ÉCRIS** le nom de :

- 2 pays complètement sous les nuages

---

---

- 1 pays où le ciel est totalement dégagé

---

- 2 pays où le ciel est partiellement dégagé

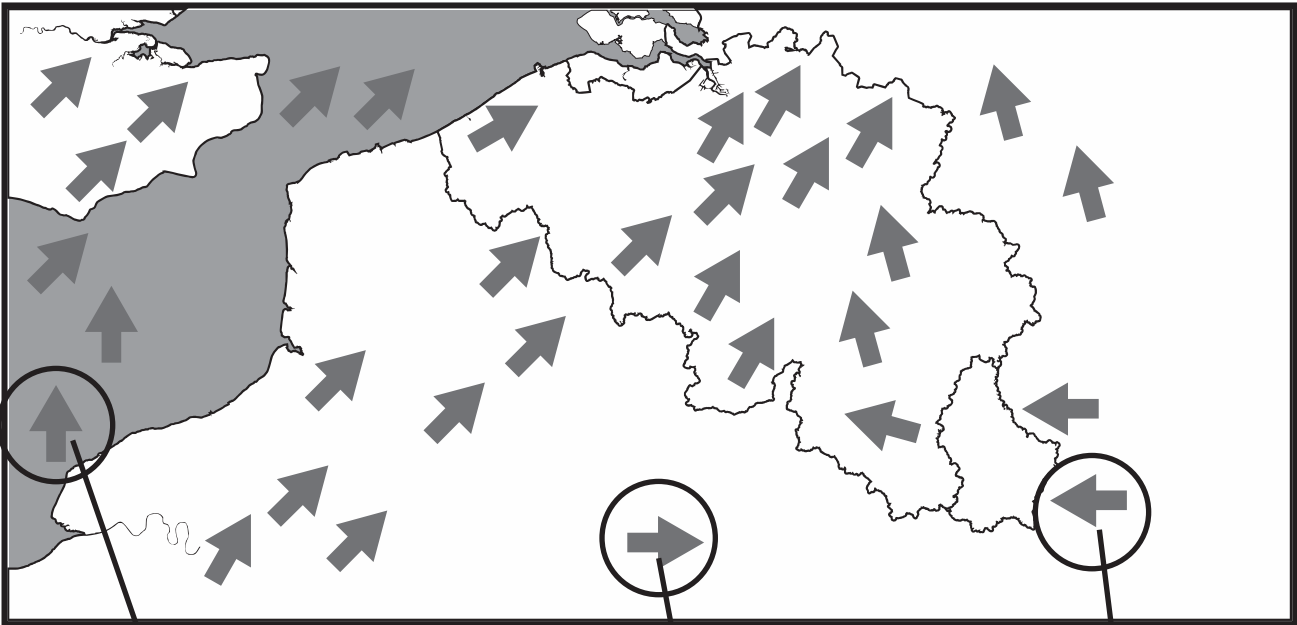
---

---

## QUESTION 5

Sur la carte ci-dessous, les flèches indiquent la direction des vents.

Pour les trois endroits entourés, **COMPLÈTE** l'étiquette en indiquant la direction du vent : **utilise les points cardinaux**.



The map shows the Mediterranean Sea and surrounding landmasses. Arrows indicate wind directions: generally from the north and northwest in the sea, and from the south and southwest over the land. Three specific arrows are circled and linked to callout boxes:

- Box 1 (left): A circled arrow pointing north from the sea. Label: "Le vent vient \_\_\_\_\_"
- Box 2 (bottom center): A circled arrow pointing east from the sea. Label: "Le vent vient \_\_\_\_\_"
- Box 3 (right): A circled arrow pointing west from the land. Label: "Le vent vient \_\_\_\_\_"

A north arrow is located on the right side of the map.

/ 1,5



## QUESTION 6

→ PORTFOLIO  
P. 15

Observe attentivement le planisphère du portfolio.

a) **ÉCRIS** le nom de trois navigateurs qui ont débarqué aux Amériques<sup>1</sup> :

---

---

---

/ 3

Quel océan ont-ils tous traversé ? **ÉCRIS**.

---

/ 1

De quel continent sont-ils tous partis ? **ÉCRIS**.

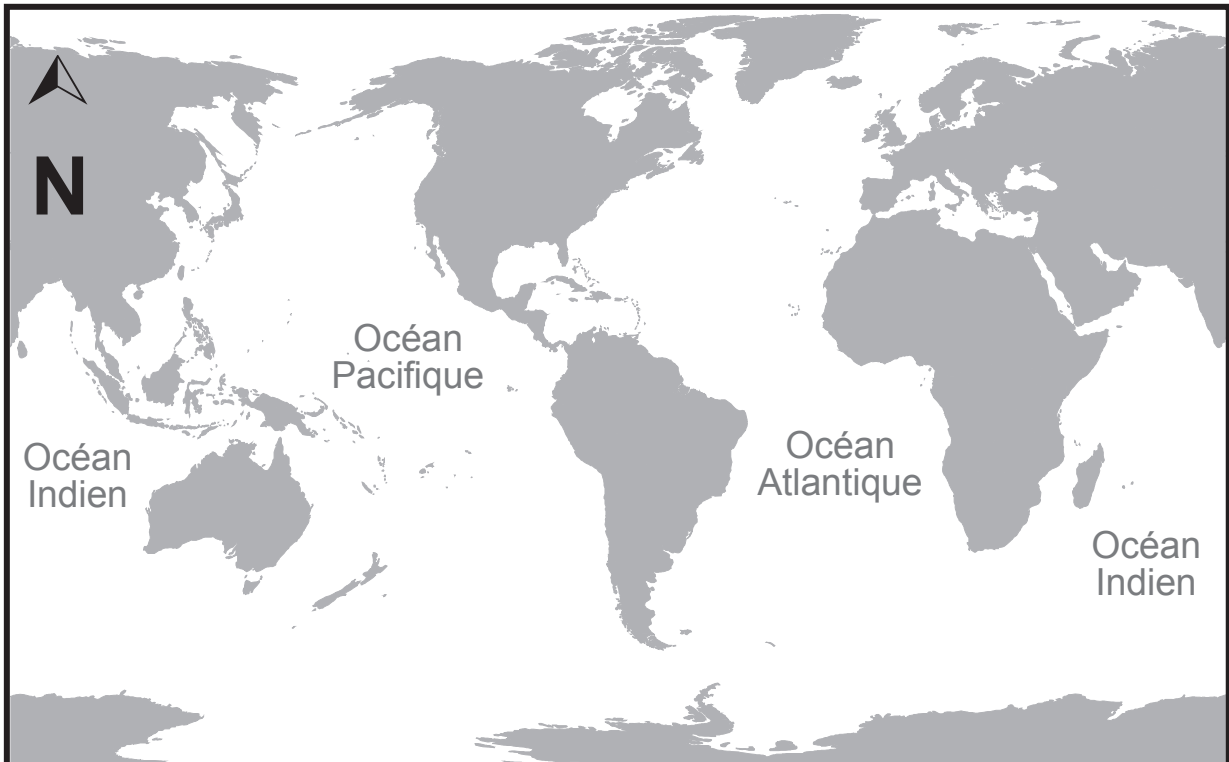
---

/ 1

---

<sup>1</sup> Le nom « Amériques » a été donné au 16<sup>e</sup> siècle à ces nouvelles terres découvertes.

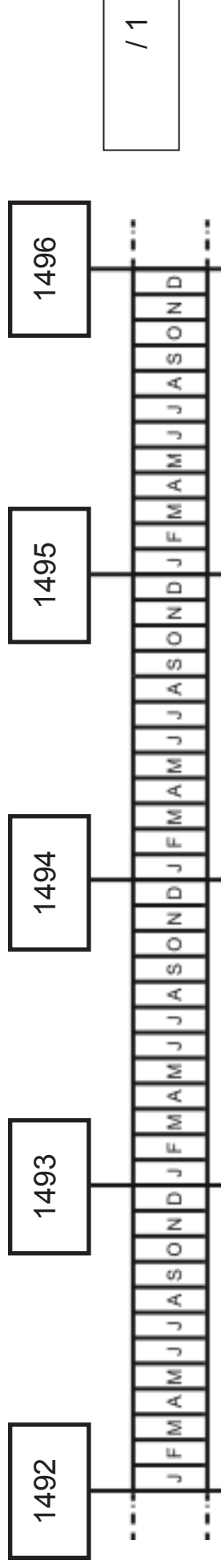
- b) Sur le planisphère ci-dessous,  
**TRACE en rouge** la route suivie par MAGELLAN ;  
**TRACE en vert** la route suivie par VASCO DE GAMA.



## QUESTION 7

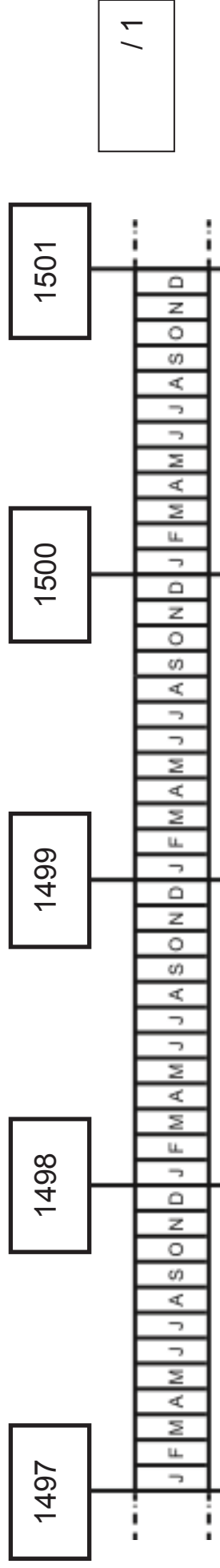
→ PORTFOLIO  
P. 16

a) **COLORIE** la durée de **toute** l'expédition emmenée par **Christophe COLOMB**.



/ 1

b) **COLORIE** la durée de **toute** l'expédition emmenée par **Vasco de GAMA**.



/ 1

c) **COMPLÈTE.**

Christophe COLOMB, Vasco de GAMA et MAGELLAN sont tous trois morts  
au \_\_\_\_\_ siècle.

/ 1

---

d) Un de ces trois navigateurs est mort au cours de son expédition.  
Lequel ?

**ÉCRIS SON NOM.**

---

/ 1

e) Quelle est la durée approximative de chaque expédition (du départ à la fin) ?

**SOULIGNE** chaque fois la proposition correcte.

L'expédition emmenée par **Vasco de GAMA** a duré...

- moins d'un an.
  - entre un et deux ans.
  - un peu plus de deux ans.
  - trois ans.
- 

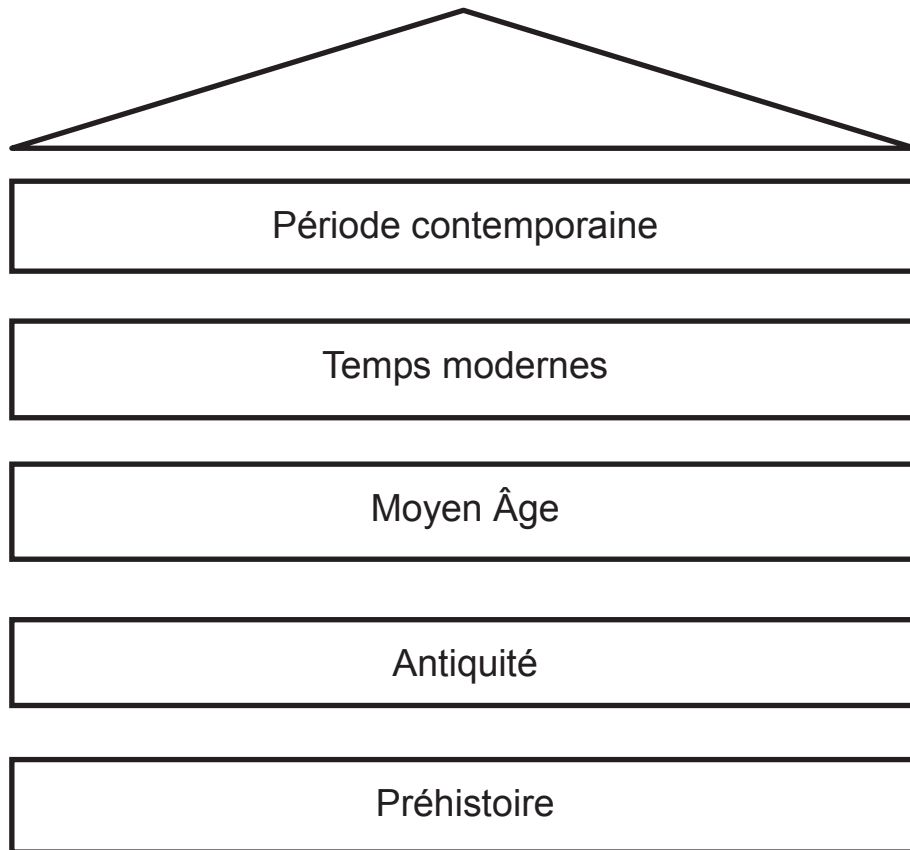
Le tour du monde réalisé par l'équipage de **MAGELLAN** a duré...

- moins d'un an.
  - entre un et deux ans.
  - un peu plus de deux ans.
  - trois ans.
- 

L'expédition emmenée par **Christophe COLOMB** a duré...

- moins d'un an.
- entre un et deux ans.
- un peu plus de deux ans.
- trois ans.

- f) Ces grandes expéditions marquent le début d'une nouvelle grande période historique. Laquelle ? **COLORIE-LA.**



# LE TEMPS DES MOISSONS

## QUESTION 8

→ PORTFOLIO  
P. 20

Observe bien les photos et réponds en fonction de ce que tu y vois.

- a) Dans le tableau suivant, **COCHE** la case qui convient pour chaque proposition.

	Les photos permettent de dire que c'est vrai	Les photos permettent de dire que c'est faux	Rien sur les photos ne permet de dire avec certitude si c'est vrai ou faux
Le travail des moissons demandait plus de main d'œuvre au début du 20 <sup>e</sup> siècle que de nos jours.			

→ PORTFOLIO  
P. 20

	Les photos permettent de dire que c'est vrai	Les photos permettent de dire que c'est faux	Rien sur les photos ne permet de dire avec certitude si c'est vrai ou faux
Les moteurs n'existaient pas encore au début du 20 <sup>e</sup> siècle.			
Au début du 20 <sup>e</sup> siècle, les travaux des champs étaient strictement réservés aux hommes.			
Aujourd'hui, les travaux des champs sont réservés strictement aux hommes.			



- b) Après avoir observé ces photos, que peux-tu dire à propos de **l'évolution** du métier d'agriculteur ?

**ÉCRIS.**

---

---

---

---

---

---

/ 1

## **QUESTION 9**

Comme le montrent les photos, le travail des moissons a évolué avec le temps. Cette évolution concerne différents aspects.

- a) Pour chacun des quatre aspects repris ci-dessous, compare les deux époques.

**COMPLÈTE** chaque phrase par **PLUS** ou par **MOINS**.

- **Le nombre de personnes au travail**  
Pour le travail des moissons, il fallait \_\_\_\_\_ de personnes au début du 20<sup>e</sup> siècle que de nos jours.
- **La pollution sonore**  
Le travail des moissons était \_\_\_\_\_ bruyant au début du 20<sup>e</sup> siècle que de nos jours.
- **La rapidité de la tâche**  
Le travail des moissons prenait \_\_\_\_\_ de temps au début du 20<sup>e</sup> siècle que de nos jours.
- **La pollution de l'air**  
Le travail des moissons était \_\_\_\_\_ polluant pour l'air au début du 20<sup>e</sup> siècle que de nos jours.

/ 2

« L'évolution n'est pas toujours synonyme de progrès. »

- b) **EXPLIQUE** cette idée par un exemple qui concerne les transports ou les loisirs.

---

---

---

---

---

---

---

# LA COMMUNE D'ANDERLECHT

## UNE DES 19 COMMUNES DE LA RÉGION DE BRUXELLES-CAPITALE

→ PORTFOLIO  
P. 19

### QUESTION 10

a) Repère ces éléments sur le plan d'Anderlecht.

**ÉCRIS** leur nom.

- Un cours d'eau : \_\_\_\_\_

- Une autoroute : \_\_\_\_\_

- Un stade de football : \_\_\_\_\_

- Un hôpital : \_\_\_\_\_

/ 2

---

b) Différents transports en commun traversent la commune d'Anderlecht.

**CITES-EN DEUX** qui sont signalés sur le plan.

\_\_\_\_\_

\_\_\_\_\_

/ 1

c) **ÉCRIS** la distance réelle, à vol d'oiseau, qui sépare le Cours Saint Guidon du Musée de Chine ?

---

/ 0,5

---

**ÉCRIS LE NOM** d'un bâtiment situé à environ 4 km à vol d'oiseau du Cours Saint Guidon.

---

/ 0,5