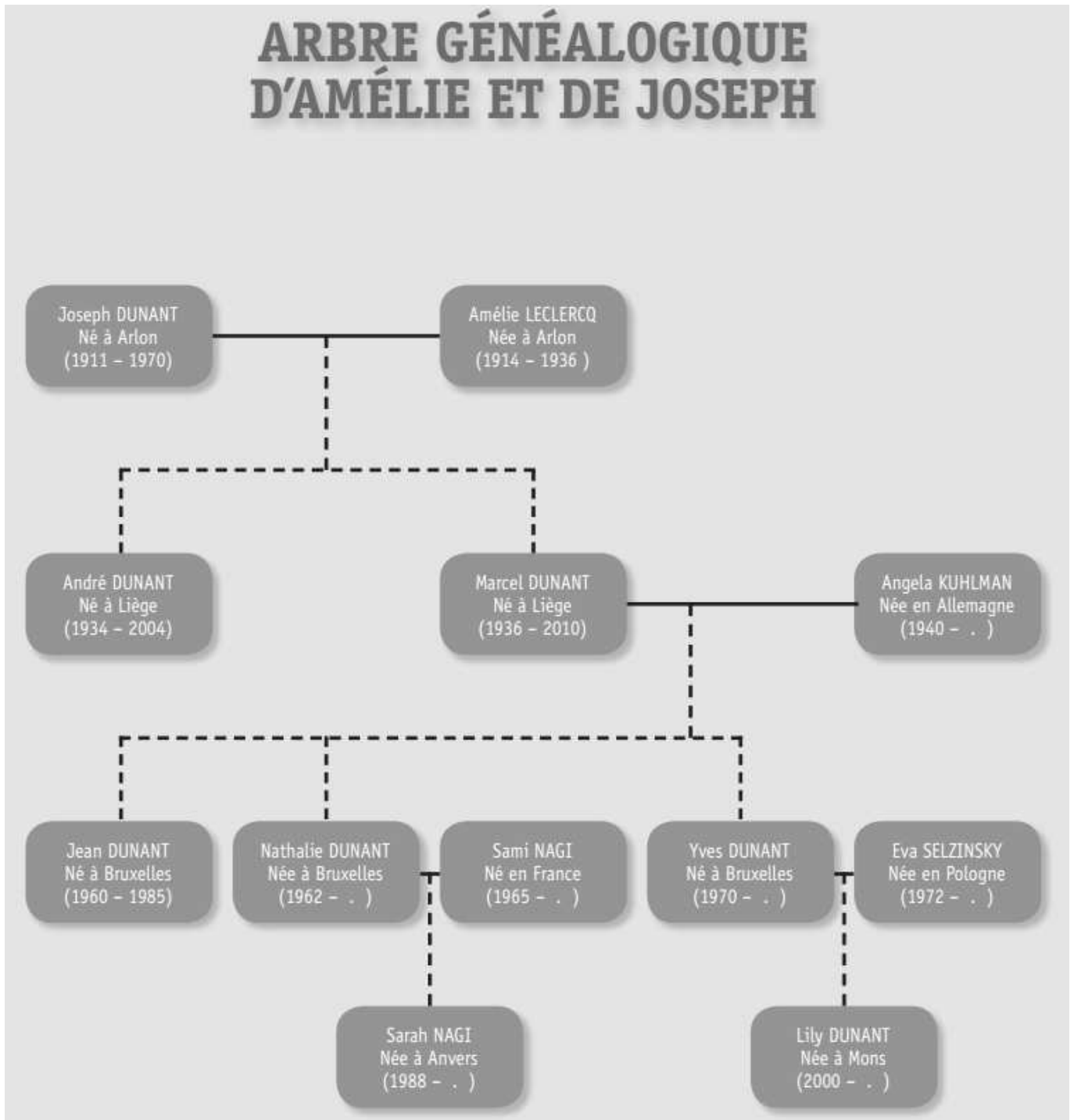


Révisions – EVEIL HISTORIQUE ET GEOGRAPHIQUE

Question **1**



———— Un trait plein veut dire « est marié(e) avec

..... Un trait en pointillé veut dire « ont eu comme enfant»

REPONDS aux questions suivantes en te servant de l'arbre généalogique.

a) **ÉCRIS** le prénom des enfants de Marcel et Angela.

b) **ÉCRIS** le prénom de deux personnes qui sont toujours vivantes.

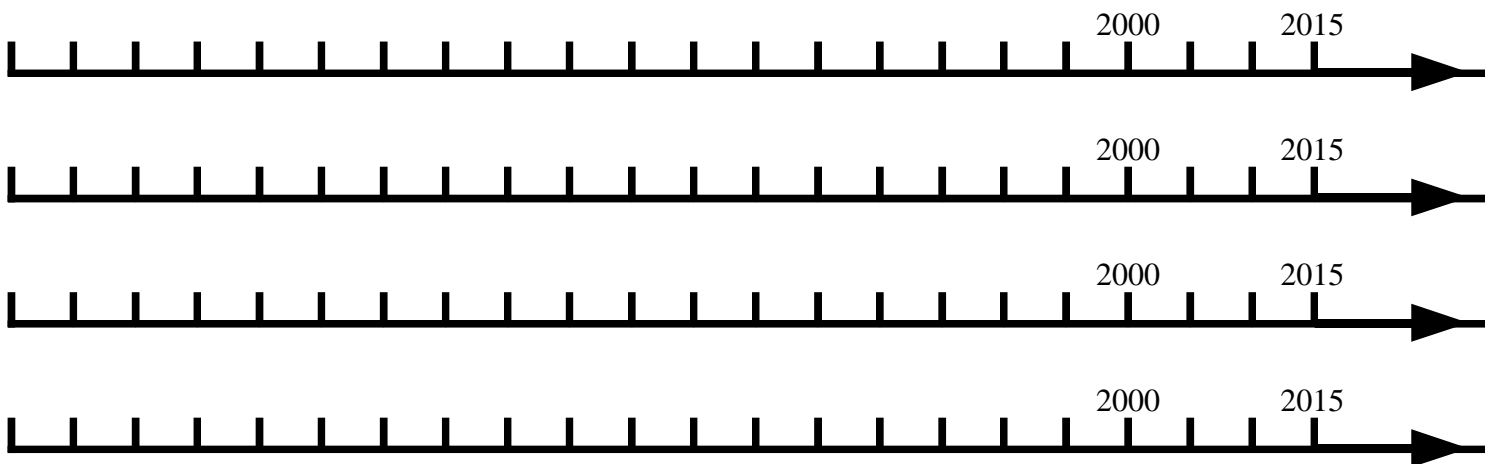
c) Qui est mort à l'âge de 25 ans ? **ÉCRIS** son prénom.

d) Des 5 personnes décédées, quelle est celle qui a vécu le plus longtemps ?
ÉCRIS son prénom. _____

e) **ÉCRIS** le prénom de 2 personnes qui ont vécu la première guerre mondiale.

f) Marcel Dunant est né l'année de la mort de Amélie Leclercq.
Y a-t-il un lien entre ces deux événements ? OUI – NON
Si tu as répondu OUI, **ÉCRIS** le lien que tu imagines.

g) **REPRESENTE** les lignes de vie de Joseph, Marcel, Jean et Lily Dunant. Utilise une ligne du temps par personne.

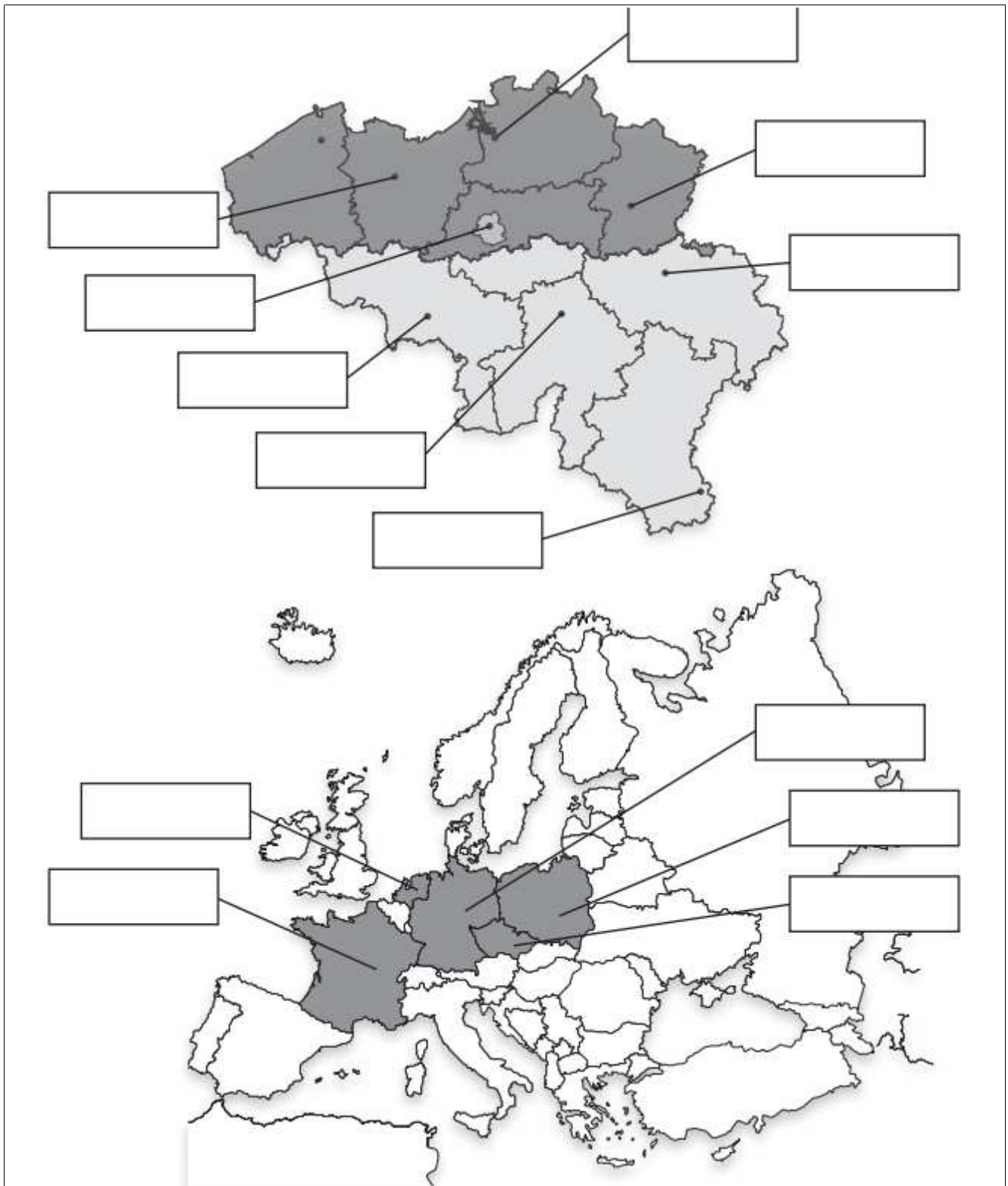


Question **2**

Voici les prénoms de huit personnes de l'arbre généalogique :

Joseph | André | Angela | Jean | Sami | Eva | Sarah | Lily

Situe l'endroit où sont nées ces 8 personnes. **ÉCRIS** leur prénom dans l'étiquette qui convient. ATTENTION, il y a deux cartes.

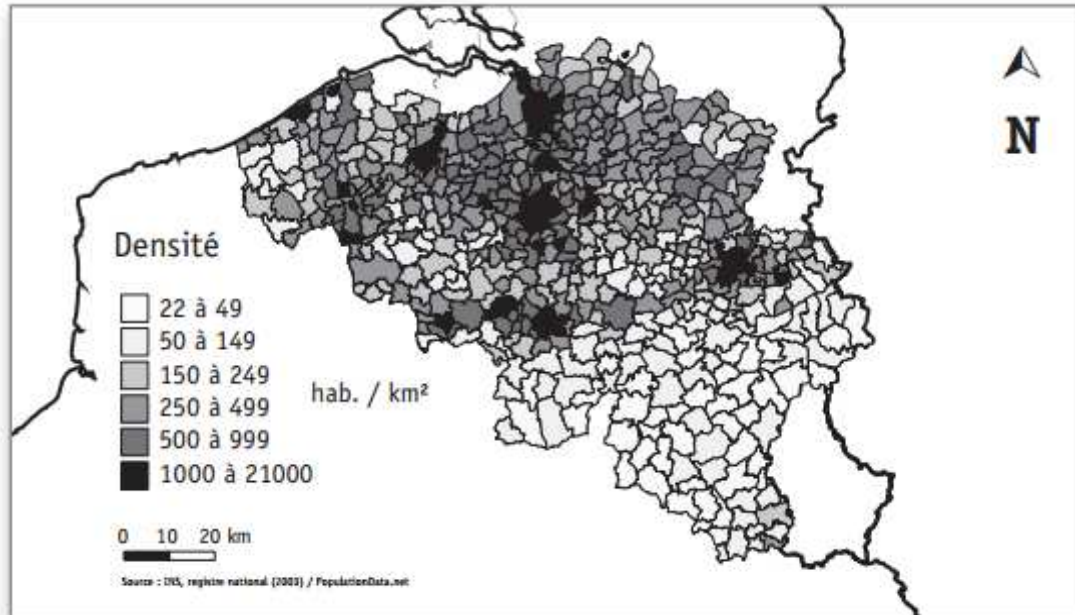


Question 3

Sur la carte de Belgique ci-dessous, situe :

- la mer du Nord ;
- les 4 pays limitrophes de la Belgique.

a) **ÉCRIS** leur nom sur la carte.



b) D'après la carte ci-dessus, que peux-tu dire à propos du nombre d'habitants de la région de Bruxelles-Capitale ? **ÉCRIS** une phrase.

c) D'après cette même carte, **COCHE** la proposition correcte.

La partie la moins peuplée de la Belgique est située :

- dans le sud de la Belgique
- dans le nord de la Belgique
- dans l'ouest de la Belgique

d) Quel est le titre qui convient à cette carte ? **COCHE**.

- « Voies navigables de Belgique »
- « Nombre d'habitants par kilomètre carré en Belgique »
- « Relief de la Belgique »

Question 4

LA COMMUNICATION A TRAVERS LE TEMPS



Tablette en bois

Tablette de Vindolanda
Époque gallo-romaine



Haut-relief (sculpté)

Moines copistes
Fin du 9^e siècle



Presse de Gutenberg

Imprimerie à caractères mobiles



Carte postale

Malle-poste de Bertrix
1911



Courriel (e-mail)

Fin des années 1990, Internet entre dans les foyers.



Téléphone mobile (GSM)

1994 : premier réseau de téléphonie mobile en Belgique



Peinture rupestre

Lascaux (environ 15 000 avant J.-C.)



Télévision

En 1960, la télévision entre dans les foyers belges.

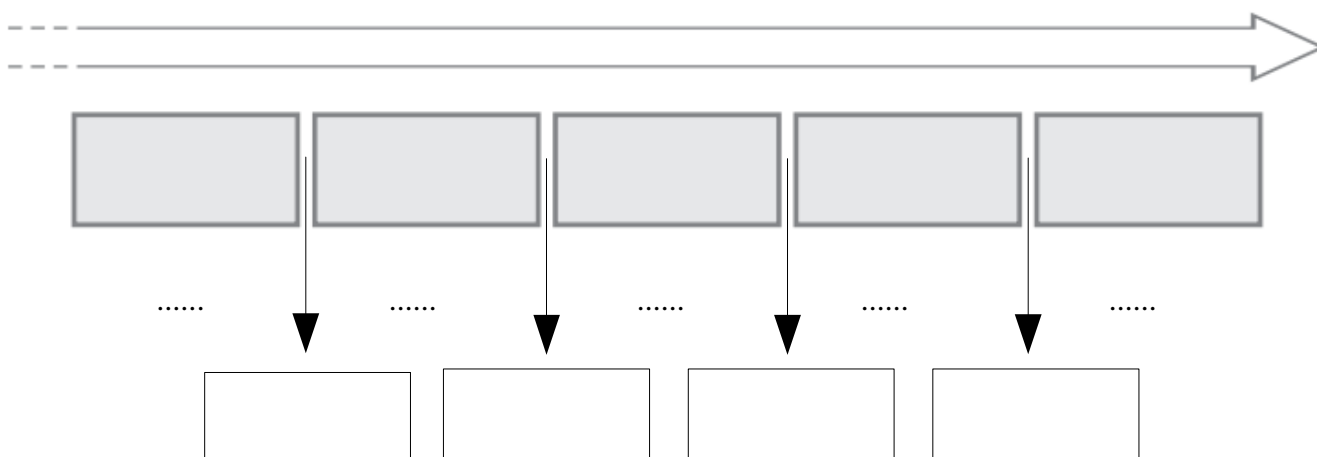
Voici une série de documents pour étudier la communication à travers le temps.

a) Pour chaque trace du passé (A, B, D, E, G), choisis l'étiquette qui identifie le mieux sa nature. **COMPLÈTE** le tableau :

Photographie	Document écrit	Monument
Sculpture	Peinture	Document audiovisuel

	Trace du passé	Nature de la trace
A	Tablette en bois	
B	Haut-relief	
D	Carte postale	
E	Courriel (e-mail)	
G	Peinture rupestre	

b) **ÉCRIS** les périodes conventionnelles dans l'ordre chronologique, dans les cases grisées. Dans la flèche supérieure, colorie la durée de l'Histoire.



c) **COMPLETE** les événements marquants le passage d'une période à l'autre dans les cases blanches.

c) **ÉCRIS** la lettre d'un document (ci-dessus) qui illustre chaque période.

Question **5**

TU DOIS NOTER TOUTES TES RÉPONSES SUR LE PLANISPHERE CI-DESSOUS.

- ÉCRIS** le nom des quatre points cardinaux sur la rose des vents.
- Certains Vikings, partis de Norvège, accostent en Islande. (Ils ont emprunté le chemin le plus court.) Sur quel océan ont-ils navigué ? **ÉCRIS** son nom sur la carte.
- Lis cet extrait.

Les Vikings sont des peuples d'Europe du Nord qui ont navigué en Europe, en Asie et même jusqu'en Amérique de la fin du VIIIe siècle au milieu du XXIe siècle.

- Cet extrait parle de trois continents. **ÉCRIS** leur nom en bleu sur le planisphère.
- Situe un continent que les Vikings n'ont pas abordé : **ÉCRIS** son nom en rouge sur le planisphère.

