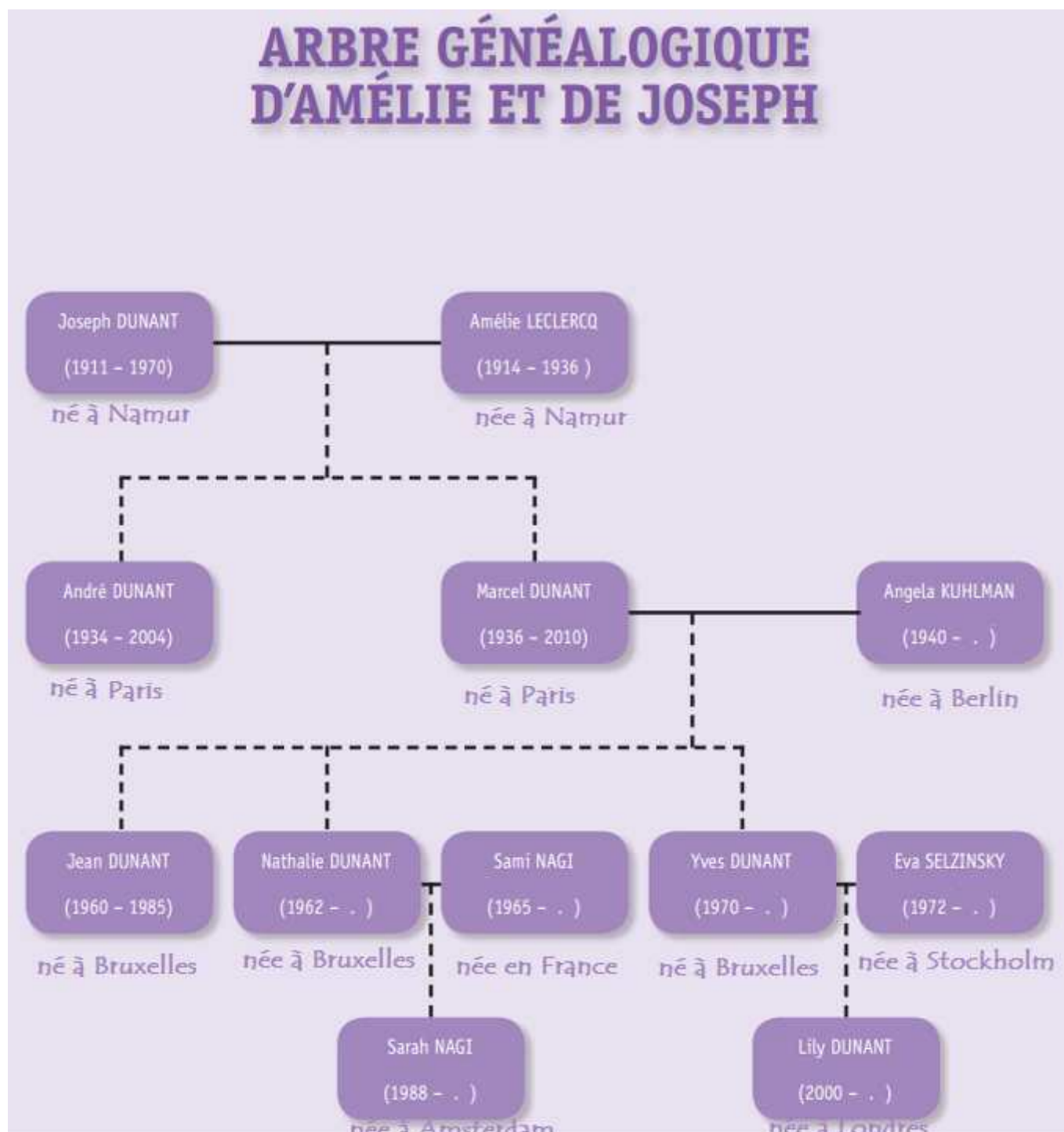


Révisions – EVEIL HISTORIQUE ET GEOGRAPHIQUE

Question **1**



———— Un trait plein veut dire « est marié(e) avec

..... Un trait en pointillé veut dire « ont eu comme enfant»

REPONDS aux questions suivantes en te servant de l'arbre généalogique.

a) **ÉCRIS** le prénom des enfants de Marcel et Angela.

b) **ÉCRIS** le prénom de deux personnes qui sont toujours vivantes.

c) **ÉCRIS** le prénom de 2 personnes qui ont vécu la première guerre mondiale.

d) **REPRESENTE** les lignes de vie de Joseph, Marcel, Jean et Lily Dunant. Utilise une ligne du temps par personne.

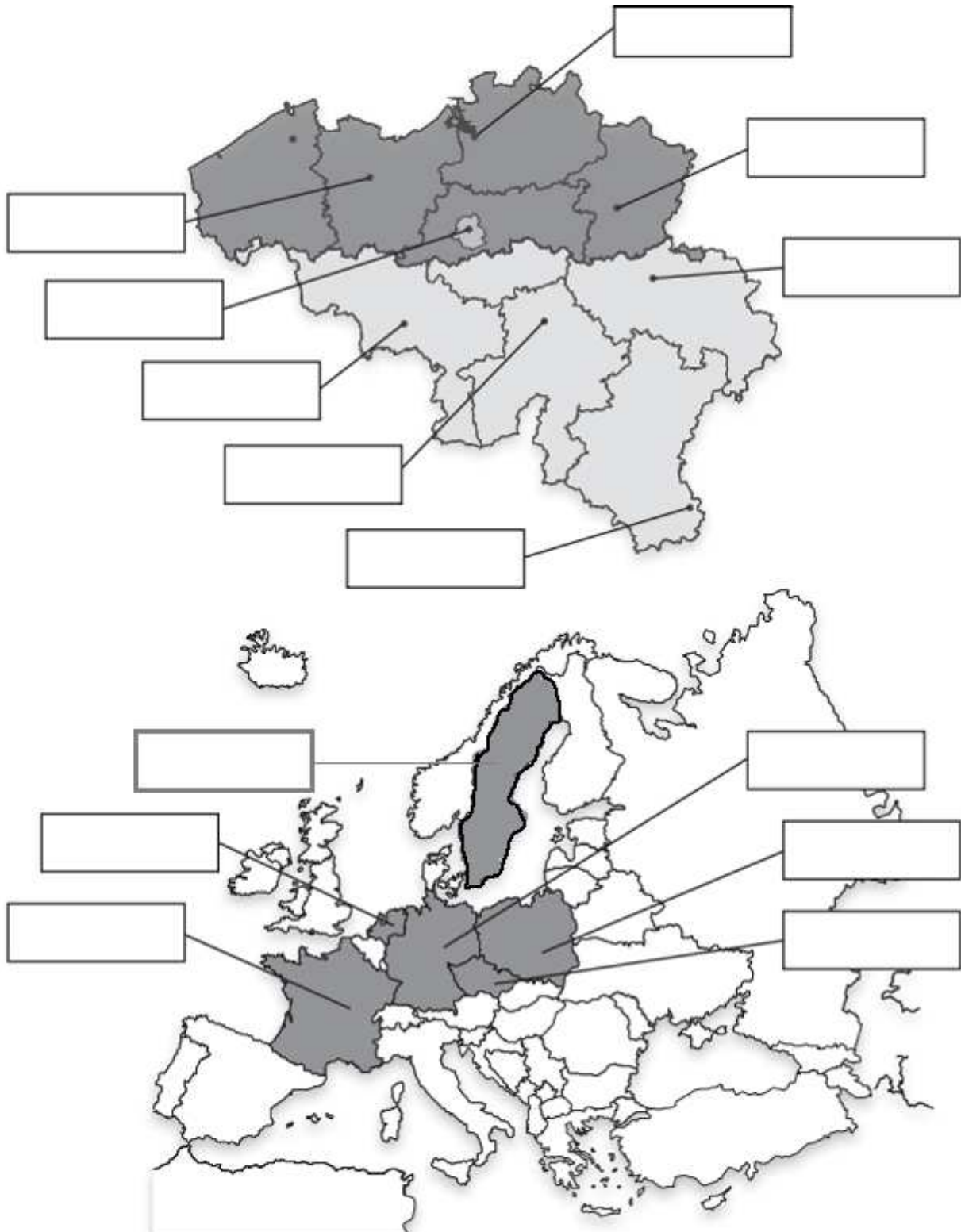


Question **2**

Voici les prénoms de sept personnes de l'arbre généalogique :

Joseph | André | Angela | Jean | Sami | Sarah | Lily

Situe l'endroit où sont nées ces 7 personnes. **ÉCRIS** leur prénom dans l'étiquette qui convient. ATTENTION, il y a deux cartes.

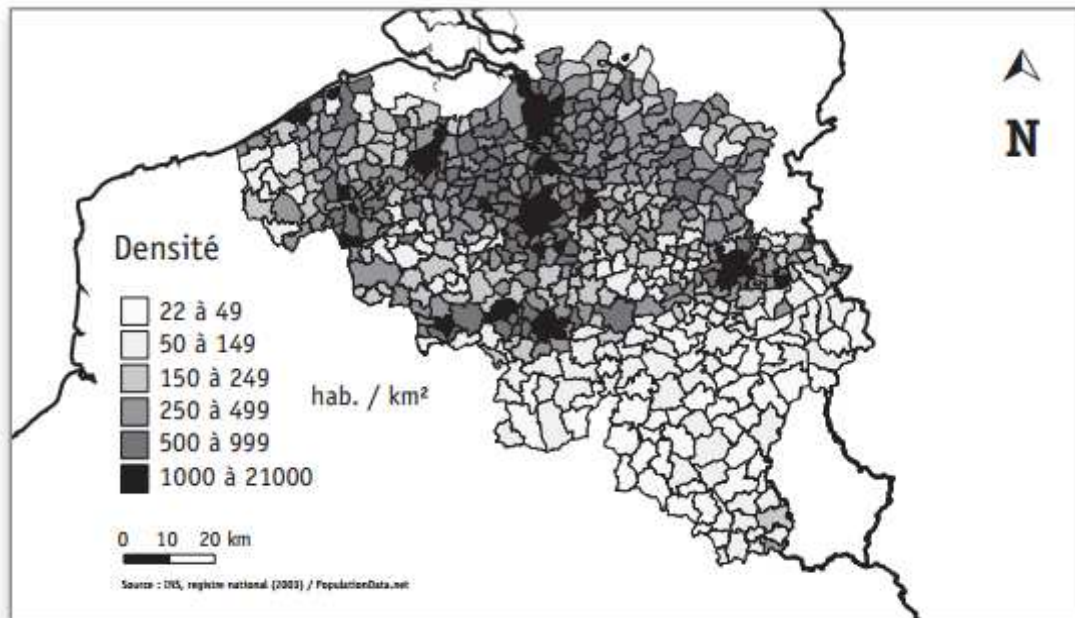


Question 3

Sur la carte de Belgique ci-dessous, situe :

- la mer du Nord ;
- les 4 pays limitrophes de la Belgique.

a) **ÉCRIS** leur nom sur la carte.



b) D'après cette même carte, **COCHE** la proposition correcte.

La partie la moins peuplée de la Belgique est située :

- en Région Wallonne
- en Région Flamande
- Dans la Région de Bruxelles-Capitale

c) Quel est le titre qui convient à cette carte ? **COCHE**.

- « Voies navigables de Belgique »
- « Nombre d'habitants par kilomètre carré en Belgique »
- « Relief de la Belgique »

d) Colorie en jaune deux communes de la Communauté Germanophone.

Question 4

LA COMMUNICATION A TRAVERS LE TEMPS



Tablette en bois

Tablette de Vindolanda
Époque gallo-romaine



Haut-relief (sculpté)

Moines copistes
Fin du 9^e siècle



Presse de Gutenberg

Imprimerie à caractères mobiles



Carte postale

Malle-poste de Bertrix
1911



Courriel (e-mail)

Fin des années 1990, Internet entre dans les foyers.



Téléphone mobile (GSM)

1994 : premier réseau de téléphonie mobile en Belgique



Peinture rupestre

Lascaux (environ 15 000 avant J.-C.)



Télévision

En 1960, la télévision entre dans les foyers belges.

Voici une série de documents pour étudier la communication à travers le temps.

a) **ÉCRIS** les périodes conventionnelles dans l'ordre chronologique, dans les cases grisées.

.....
↓				
□				

b) **COMPLETE** l'événement qui a marqué le passage de la première à la seconde période.

c) Choisis 5 documents (ci-dessus). Pour chacun d'eux **ÉCRIS** la lettre du document qui illustre chaque période.

Question 5

a) Certains Vikings, partis de Norvège, accostent en Islande. (Ils ont emprunté le chemin le plus court.) Sur quel océan ont-ils navigué ? **ÉCRIS** son nom sur la carte.
b) Lis cet extrait.

Les Vikings sont des peuples d'Europe du Nord qui ont navigué en Europe, en Asie et même jusqu'en Amérique de la fin du VIIIe siècle au milieu du XXIe siècle.

- Cet extrait parle de trois continents. **ÉCRIS** leur nom en bleu sur le planisphère.
- Situe un continent que les Vikings n'ont pas abordé : **ÉCRIS** son nom en rouge sur le planisphère.

