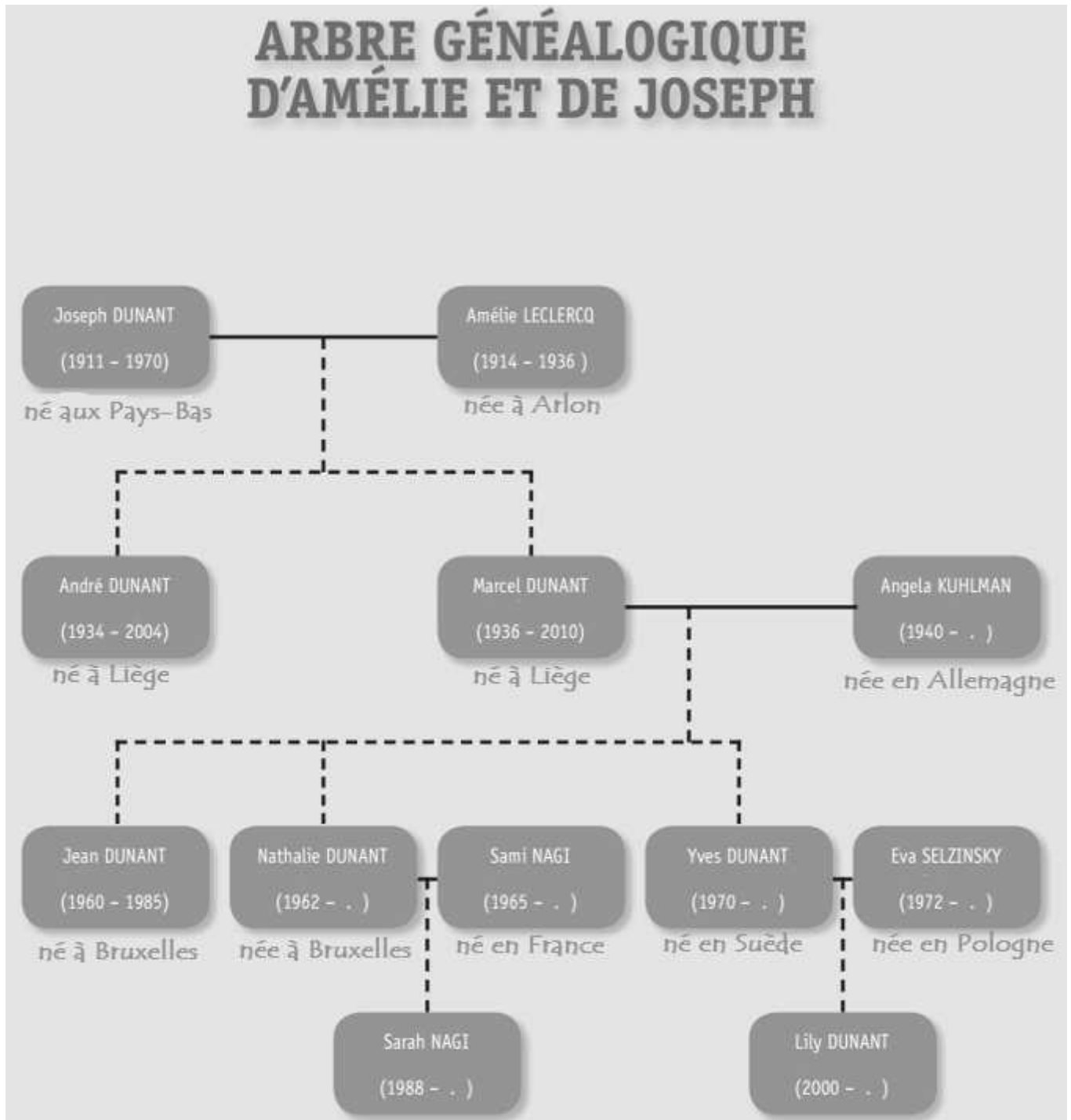


Révisions – EVEIL HISTORIQUE ET GEOGRAPHIQUE

Question **1**



———— Un trait plein veut dire « est marié(e) avec

..... Un trait en pointillé veut dire « ont eu comme enfant»

REPONDS aux questions suivantes en te servant de l'arbre généalogique.

a) **ÉCRIS** le prénom des enfants de Marcel et Angela.

b) **ÉCRIS** le prénom de deux personnes qui sont toujours vivantes.

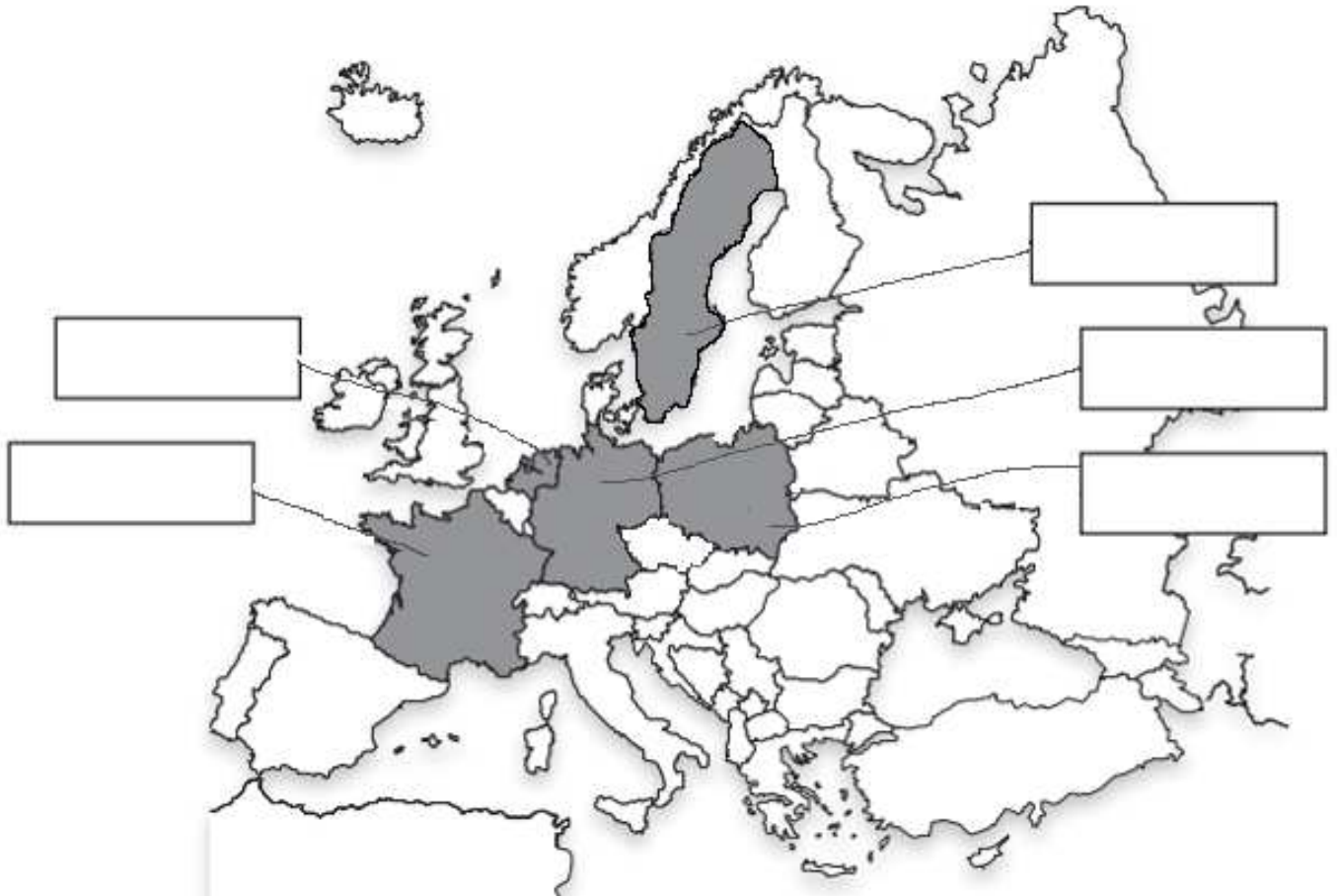
c) **REPRESENTE** les lignes de vie de Joseph, Marcel, Jean et Lily Dunant. Utilise une ligne du temps par personne.



Question **2**

Voici les prénoms de six personnes de l'arbre généalogique :

Joseph | Angela | Jean | Sami | Yves | Eva



Situe l'endroit où sont nées ces 6 personnes. **ÉCRIS** leur prénom dans l'étiquette qui convient. Attention il manque une étiquette, tu ne dois donc pas inscrire une personne.

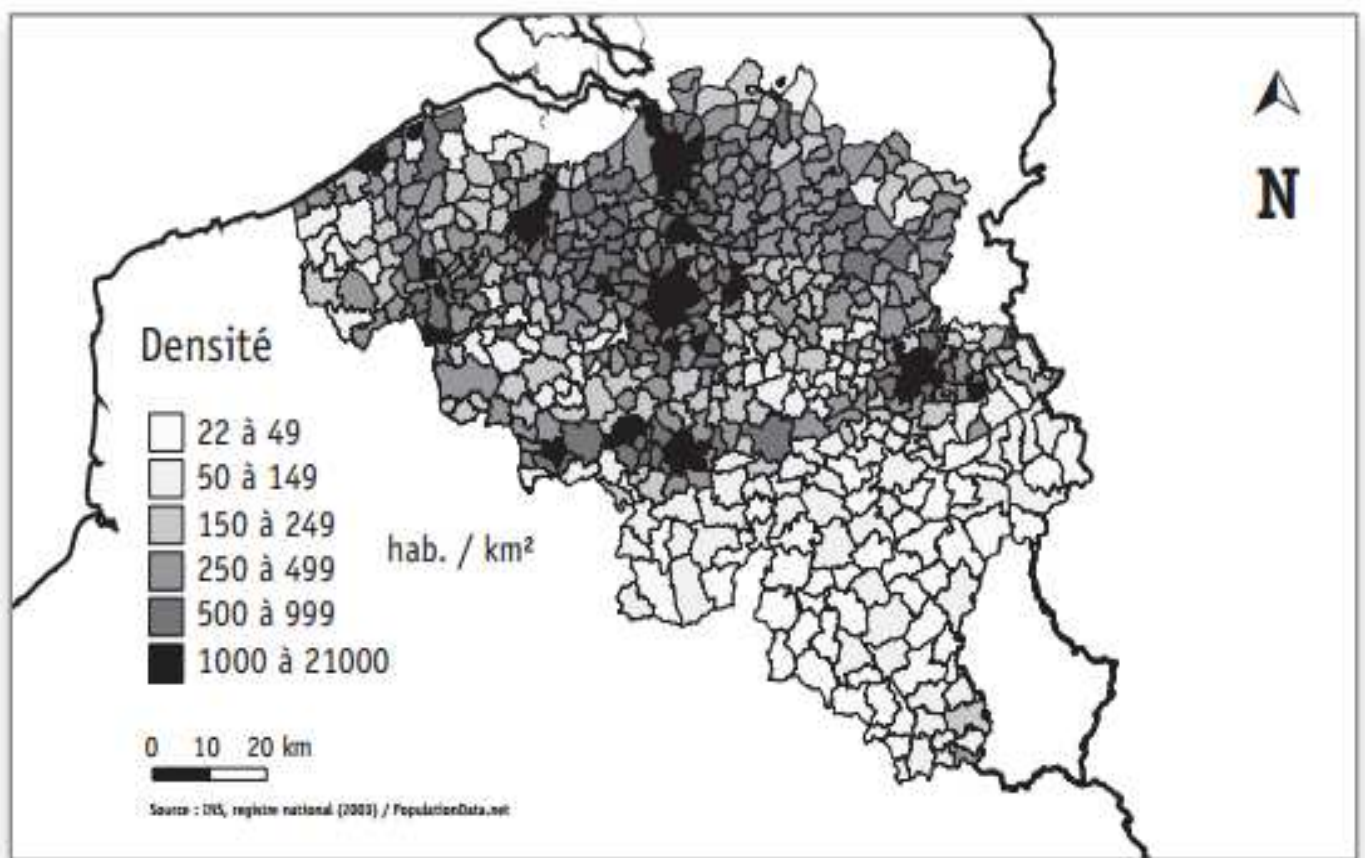
Question 3

Sur la carte de Belgique ci-dessous, situe :

- la mer du Nord ;
- les 4 pays limitrophes de la Belgique.

a) **ÉCRIS** leur nom sur la carte.

Nombre d'habitants par km² en Belgique



Question 4

LA COMMUNICATION A TRAVERS LE TEMPS



A Tablette en bois

Tablette de Vindolanda
Époque gallo-romaine



B Haut-relief (sculpté)

Moines copistes
Fin du 9^e siècle



C Presse de Gutenberg

Imprimerie à caractères mobiles



D Carte postale

Malle-poste de Bertrix
1911



E Courriel (e-mail)

Fin des années 1990, Internet entre dans les foyers.



F Téléphone mobile (GSM)

1994 : premier réseau de téléphonie mobile en Belgique



G Peinture rupestre

Lascaux (environ 15 000 avant J.-C.)

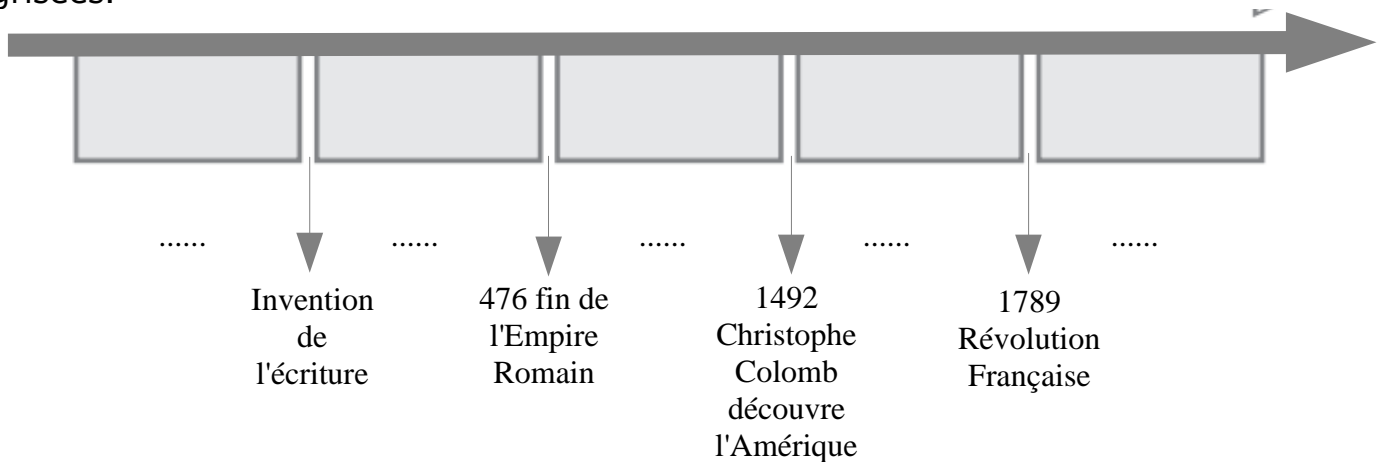


H Télévision

En 1960, la télévision entre dans les foyers belges.

Voici une série de documents pour étudier la communication à travers le temps.

a) **ÉCRIS** les périodes conventionnelles dans l'ordre chronologique, dans les cases grisées.



c) Choisis 3 documents que tu sais replacer sur cette ligne du temps. **ÉCRIS** la lettre du document sur les pointillés sous la période qui convient.

Question **5**

TU DOIS NOTER TOUTES TES RÉPONSES SUR LE PLANISPHÈRE CI-DESSOUS.

Lis cet extrait.

Les Vikings sont des peuples d'Europe du Nord qui ont navigué en Europe, en Asie et même jusqu'en Amérique de la fin du 8e siècle au milieu du 11e siècle.

- Cet extrait parle de trois continents. **ÉCRIS** leur nom en bleu sur le planisphère.
- Situe un continent que les Vikings n'ont pas abordé : **ÉCRIS** son nom en rouge sur le planisphère.

