

NOM (4) : _____

Où en sont tes acquis en Grandeurs ?

1. **Dessine** les 5 pièces qu'il pourrait y avoir dans les porte-monnaie s'il y avait (avant) 5 euros et que tu as dépensé



2,40 €



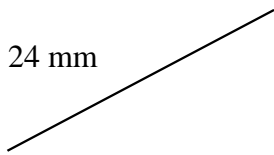
1,65 €



3,18 €

2. **Achève** ou **limite** les segments pour qu'ils mesurent ...

24 mm



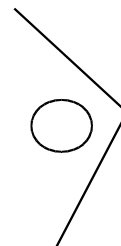
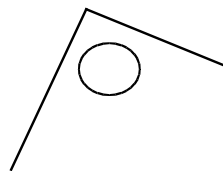
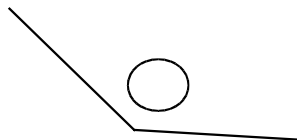
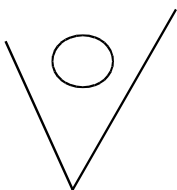
2,7 cm



0,31 dm

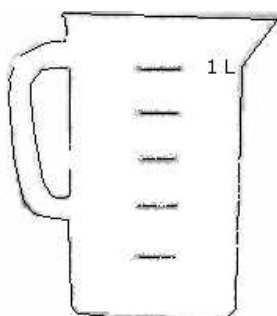


3. **Mesure** chacun des angles avec précision.



4. **Colorie** le pot pour montrer qu'il contient.

30 cl



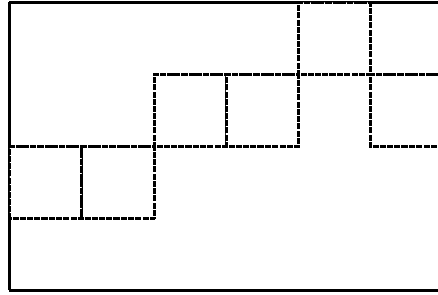
3/5 litre



700 ml



5. **Complète.** Combien de pavés de chaque sorte faut-il pour recouvrir ce rectangle ?




.....



.....

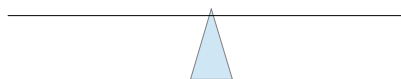


.....



7. Dessine 2 rectangles de 12 cm²

8. Complète les balances pour qu'elles soient en équilibre. Tu peux utiliser les poids :



Tu as pesé 160 g de farine.



Tu as pesé 90 g de noix.

Complète les égalités :

$\frac{3}{4}$ kg = _____ g

1 kilo : 5 = _____ g

2,4 kilo = _____ g

$\frac{2}{5}$ de kilo = _____ g

_____ kg = 1700 g

_____ kg = 850 g

9. **Complète :**

1 jour = _____ heures

2 h = _____ min

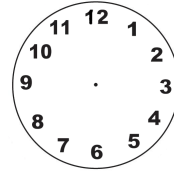

1 an = _____ jour

1 heure et demie = _____ min

1 min = _____ sec

5 h = _____ sec

10. Mon film commence à 20h38 et se termine à 21h12. Combien de temps dure-t-il réellement ? **Dessine** les aiguilles sur les horloges



Ta réponse : Mon film dure

11. Quelle heure est-il ? **Dessine** les aiguilles.

