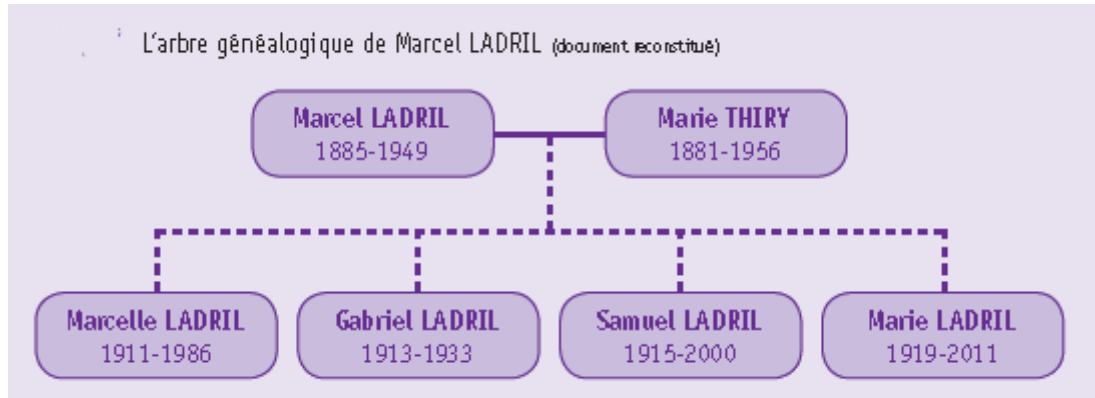


**Mes acquis – EVEIL HISTORIQUE ET GEOGRAPHIQUE**Question **1**

./9



———— Un trait plein veut dire « est marié(e) avec

..... Un trait en pointillé veut dire « ont eu comme enfant ....»

**REPONDS** aux questions suivantes en te servant de l'arbre généalogique.

a) **ÉCRIS** le prénom des soeurs de Samuel.

---

b) **ÉCRIS** le prénom de deux personnes qui sont nées pendant la guerre 14-18.

---

c) **REPRESENTE** les lignes de vie de Marcel et de Marie Ladril. Utilise une ligne du temps par personne.





En juillet 1914, **Marcel LADRIL** habite avec sa femme Marie et leurs deux enfants Marcelle et Gabriel à Jevoumont (petit hameau de la commune de Theux en province de Liège). Il est peintre et sculpteur.

Le 29 juillet 1914, il doit rejoindre l'armée belge. La mission de sa troupe est de protéger les forts autour de Liège.

De qui parle-t-on dans ce document ? **ECRIS** son nom : \_\_\_\_\_

**COMPLETE.** Dans ce document, on dit que l'homme de la photo a \_\_\_\_\_ enfants.

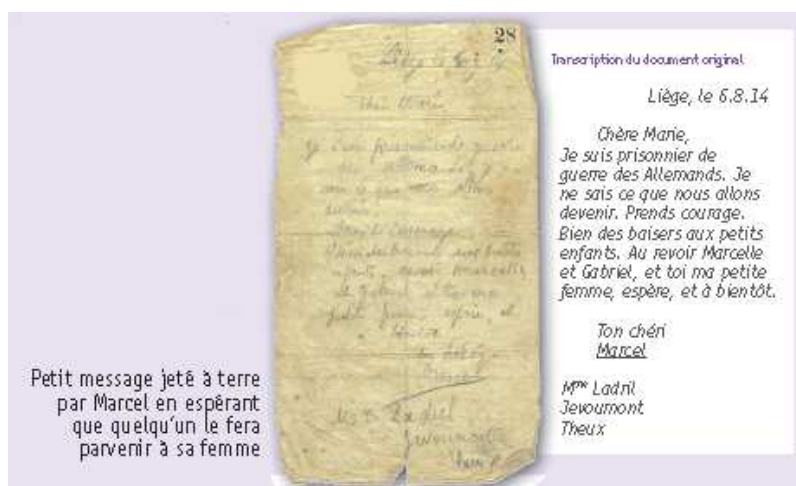
Dans l'arbre généalogique de la question 1, on dit que cet homme en a \_\_\_\_\_.

**EXPLIQUE** cette différence en quelques mots. \_\_\_\_\_

Quels sont les métiers exercés par cet homme ? **ENTOURE** les bonnes réponses.

Architecte – Militaire – Peintre – Maçon – Agriculteur – Sculpteur

## Question 3



Ci-dessus, **ENTOURE** en rouge le document original.

Quel type de document est-ce ? **ENTOURE** la bonne réponse

monument – photographie – document écrit – sculpture – peinture

**ECRIS** la date complète du message : \_\_\_\_\_

Que dit ce message : **COCHE** la bonne réponse

Marie est prisonnière des Allemands.

Marcel est prisonnier des Allemands

Marcel, Allemand, est prisonnier de guerre à Liège.

Question **4**

./4



Voici une photo de Madame Ladril et ses enfants.

**ECRIS** le nom des enfants du plus âgé au plus jeune.

Est-ce que leur papa va revenir de la guerre ? **ENTOURE** OUI – NON .

**JUSTIFIE** ta réponse : \_\_\_\_\_

Question **5**

./10

Voici une carte de la Belgique en 1914 et une autre de la Belgique en 2015.

Pour chacune d'elles, **COLORIE** les pays limitrophes et **COMPLETE** la légende.

Pays voisins de la Belgique.

	_____
	_____
	_____
	_____

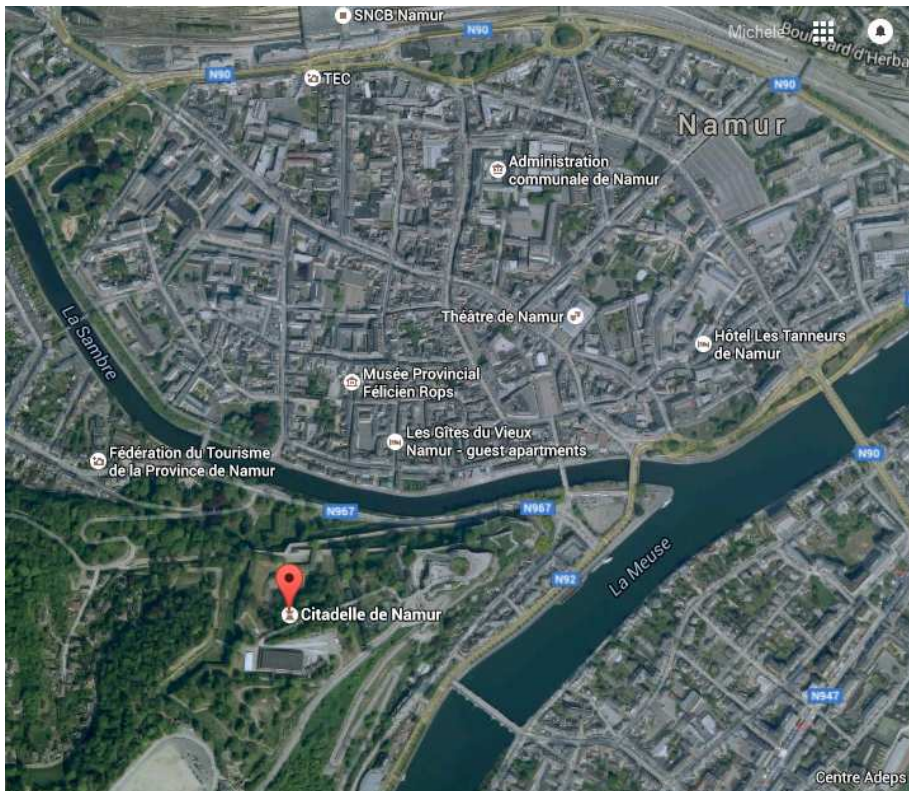


**BARRE** ce qui ne convient pas  
 La surface de la Belgique  
 - est restée la même  
 - a diminué  
 - a augmenté

**ECRIS** le nom de deux villes qui sont devenues belges :

\_\_\_\_\_ et \_\_\_\_\_

Vue aérienne



Vue au sol



De quelle ville ont été prises ces deux vues. **ECRIS** son nom : \_\_\_\_\_

Donne deux indices qui t'ont aidé à trouver la ville :

- \_\_\_\_\_
- \_\_\_\_\_

**TRACE** une croix rouge sur la vue aérienne pour indiquer l'endroit où a été prise la vue au sol.

Sur quelle photo distingue-t-on le mieux les éléments du paysage repris dans le tableau. Pour chaque élément **TRACE** une croix dans le tableau.

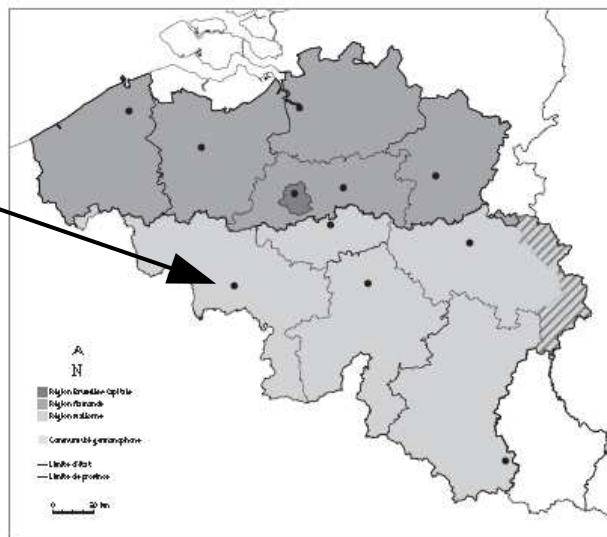
	Vue aérienne	Vue au sol
Dessus des toitures des maisons.		
Panneaux de signalisation routière.		
Hauteur de la Citadelle.		
Le cours de la Meuse.		
La longueur des routes.		

Quelle photo utiliserais-tu pour faire le plan de cette partie de la ville ?

**ENTOURE** ton choix. Vue aérienne - Vue au sol

Question **7**

./4



Sur cette carte de la Belgique, **COLORIE** la Mer du Nord.

Comment s'appelle la ville désignée par la flèche ? **ECRIE** son nom : \_\_\_\_\_

A l'occasion de cet événement, Mons a organisé quelques grandes expositions.

**COLORIE** en jaune dans le calendrier du mois de MAI 2015, tous les jours d'ouverture de l'exposition Van Gogh au Borinage.

Mons 2015 : Quelques grandes expositions	
<i>Van Gogh au Borinage</i>	Du 25 janvier 2015 au 17 mai 2015 inclus tous les jours sauf le lundi 10 h – 18 h
<i>Verlaine, cellule 252</i>	Du 17 octobre 2015 au 24 janvier 2016 inclus tous les jours sauf le lundi 10 h – 18 h
<i>L'Homme, le Dragon et la Mort</i>	Du 18 octobre 2015 au 17 janvier 2016 inclus tous les jours sauf le lundi 10 h – 18 h
<i>Mons Superstar</i>	Du 24 janvier 2015 au 12 avril 2015 inclus tous les jours sauf le lundi 10 h – 18 h
<i>Atopolis</i>	Du 13 juin 2015 au 18 octobre 2015 inclus tous les jours sauf le lundi 12 h – 18 h

MAI 2015						
L	M	M	J	V	S	D
				1	2	3
4	5	6	7	8	9	10
11	12	13	14	15	16	17
18	19	20	21	22	23	24
25	26	27	28	29	30	31

Complète cette ligne du temps de l'Histoire des hommes. **ÉCRIS** un nom de période dans chacun des cases.

--	--	--	--	--

.....

.....

.....

.....

.....

Voici des documents qui racontent des grandes guerres connues en Europe.

Replace ces documents sur la ligne du temps. **ÉCRIS** la lettre du document sur les pointillés sous la période qui convient.



Guerre des Gaules – Jules César  
58 à 51 avant Jésus-Christ



La guerre du feu  
- 12 000



La guerre de 100 ans  
1337 - 1475

Sur chacune des cartes ci-dessous, **ENTOURE** l'Eurasie et **ECRIS** Atlantique dans l'Océan Atlantique.

- a) Planisphère centré sur l'Europe



- b) Planisphere centré sur l'Amérique



- c) Planisphere centré sur l'Asie

