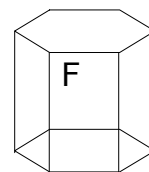
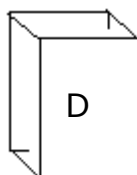
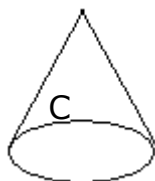
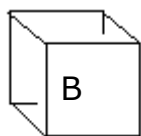
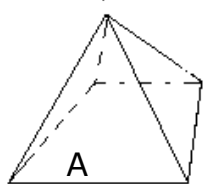


NOM (5):

Solides et Figures





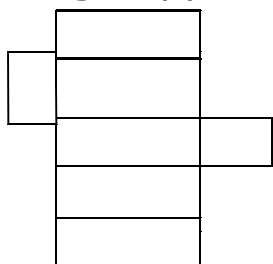
.....
Complète. Quel est le nom des solides A, D et F ?

Colorie tous les solides qui font partie de la famille des prismes.

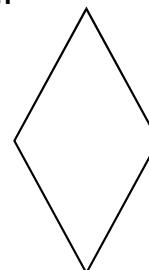
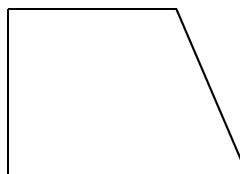
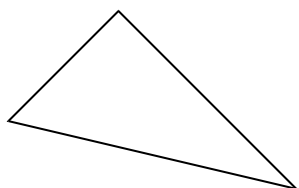
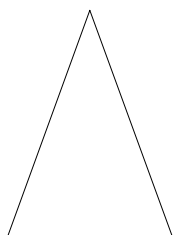
Complète le tableau pour les solides A , D

	Solide A	Solide D
Nombre de faces		
Nombre d'arêtes		
Nombre de sommets		

Corrige le(s) développement(s) incorrect(s) .



Voici une série de figures. **Ecris** leur nom le plus précis possible.



Complète la définition.

Un polygone régulier est

.....

A partir des côtés donnés,

Achève avec précision le rectangle et le parallélogramme



Trace...


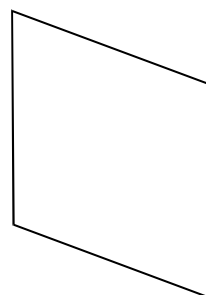
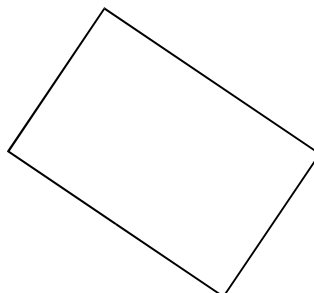
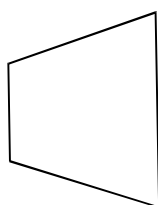

Un triangle obtusangle isocèle

Un triangle équilatéral

Voici des quadrilatères.

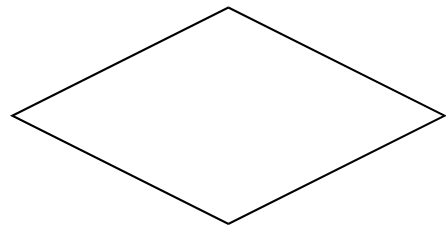
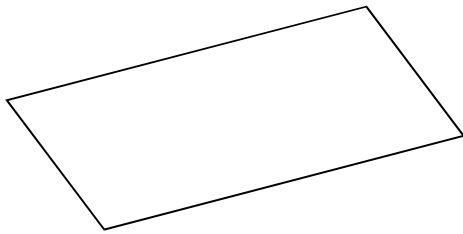
Colorie ceux qui font partie de la famille des parallélogrammes.

Mets une croix dans ceux qui font partie de la famille des rectangles.



Trace, avec précision, de deux manières différentes un octogone régulier...

Trace en vert les diagonales et en rouge les médianes des figures ci-dessous.



Quelle différence y a-t-il entre :

Un trapèze et un parallélogramme ?

Un rectangle et un carré ?