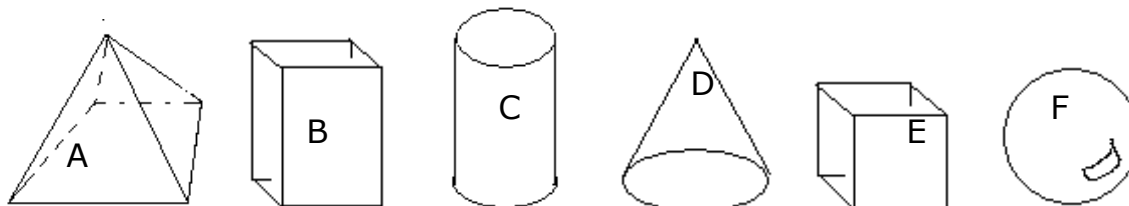


NOM (4):

Solides et Figures



Parmi les solides dessinés en perspective ci-dessus, quels sont ceux que tu pourrais regrouper et sous quel critère ? **Complète** les propositions suivantes..




Je peux mettredans le même groupe car ils ont tous des faces planes.

Je peux mettre B et E dans le même groupe car

Complète le tableau pour les solides A , B

	Solide B	Solide E
Nombre de faces		
Nombre d'arêtes		
Nombre de sommets		

Barre le(s) développement(s) incorrect(s).

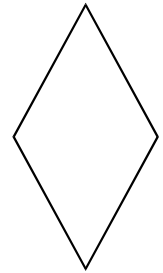
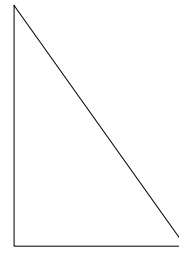
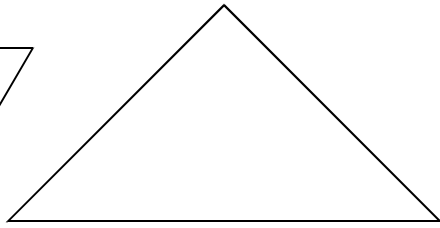



Complète les définitions.

Un triangle est


Un quadrilatère est

Voici une série de figures. **Ecris** leur nom le plus précis possible.




En traçant une seule ligne.....

..**transforme** ce rectangle en carré.



..**transforme** ce parallélogramme en losange



Trace

un triangle acutangle

un triangle obtusangle

Achève, sans sortir du cadre, les angles pour qu'ils deviennent, ...

...un angle droit

...un angle obtus de 110°

