



7. Voilà le prix des ingrédients.




1,76 €/kg - 1,26€/kg - 2,25€/250g - 2€ les douze - 0,14€/pc - 6€/250g

Dessine ce que tu dois acheter.

Tes calculs :

Ta réponse : En tout tu devras payer

8. Dessine trois polygones différents qui recouvriront 24 carrés.



Colorie celui qui a le plus petit périmètre.

9. Marc a acheté 15 cartes à 0,20 € pièce.
Il a revendu son paquet avec 10% de bénéfice.
Coche la bonne affirmation.
- Il a récupéré exactement son argent.
 - Il a perdu de l'argent.
 - Il a gagné de l'argent.
- Combien a-t-il revendu son paquet ? **Tes calculs :**