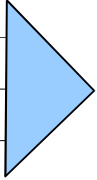

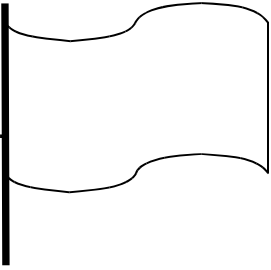
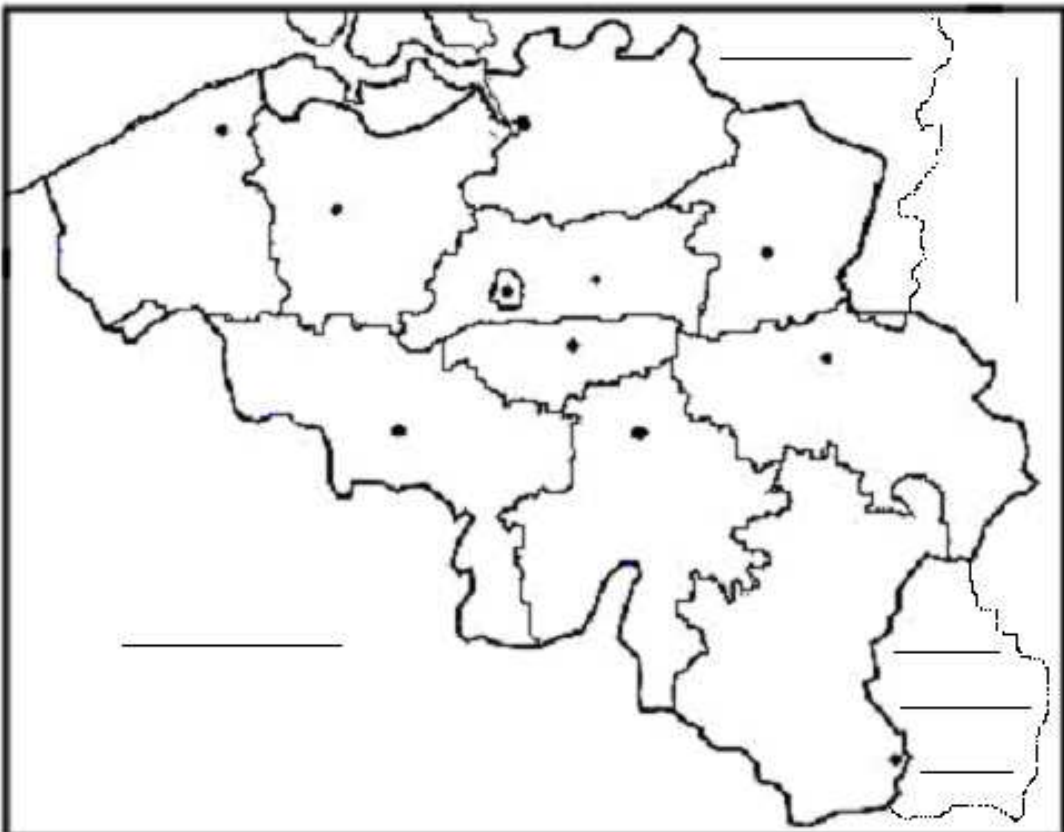


NOM :

Quels sont mes acquis en Eveil historique et géographique ? – 3ème année

1.	<p>Ecris les noms dans l'ordre chronologique de grande période de l'histoire des hommes. <i>(Cette bande n'est pas proportionnelle).</i></p> <table border="1" data-bbox="188 443 1316 548"> <tr> <td>Préhistoire</td> <td></td> <td></td> <td></td> <td></td> <td></td> </tr> <tr> <td></td> <td></td> <td></td> <td></td> <td></td> <td></td> </tr> </table>  <p>Tu as reçu une série de documents. Place les numéros de ces documents dans les périodes qui conviennent.</p>	Préhistoire												. /5
Préhistoire														
2.	<p>Dans la même série de documents, entoure ceux qui illustrent l'histoire du vélo.</p>	. /1												
3.	<p>Voici la photo d'un ancêtre du vélo qui a été conservé jusqu'à nos jours. Comment s'appelle cet ancêtre ?</p>  <p>Entoure la bonne réponse. Ce document est-il fiable pour étudier l'histoire du vélo ? OUI – NON Justifie ton choix :</p> <p>Par des flèches, ajoute sur la photo ce qui manque par rapport au vélo de nos jours.</p>	. /5												

4.	<p>Colorie le drapeau belge.</p> <p>Complète : La capitale de la Belgique est</p>		./2
5.	<p>Voici une carte de la Belgique.</p> <p>Repasse les frontières de la Belgique en rouge.</p> <p>Colorie la mer en Bleu.</p> <p>Colorie en différentes couleurs et écris les noms des pays limitrophes.</p> <p>Colorie la province de Namur en vert.</p> <p>Hachure la Région Wallonne</p> 	./8	
6.	<p>Complète :</p> <p>Je m'appelleJ'habite à</p> <p>Mon village (ma ville) se trouve en Région.....</p> <p>et dans la province de</p>	./2	

7. Voici une carte de l'Europe.
Colorie en rouge la Belgique.
Colorie les pays limitrophes de la même couleur que dans la question précédente.

./5



8. Tu trouveras dans tes documents un plan des alentours de l'école. Quelle est à peu près la longueur de la rue des Ecoles ?
Explique par calculs, en dessins ou en quelques mots comment tu as réfléchi.

./2