

NOM :

Mes acquis en Grandeurs – 4ème année

1. **Dessine** les **5** pièces qu'il pourrait y avoir dans les porte-monnaie s'il y avait 5 euros et que tu as dépensé



4,75



2,65 €



1,80€

./3

2. **Achève** les segments pour qu'ils mesurent ...

3,5 cm



73 mm


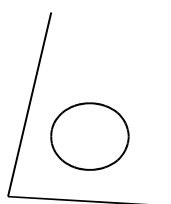
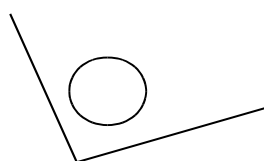


0,12 dm



./3

3. **Mesure** chacun des angles avec précision.



./4

4. Pour préparer un crumble pour 4 personnes, j'utilise 20 cl de lait, de la farine, du beurre, des pommes et 1 oeuf. Avec 2 litre de lait, je peux faire des crumbles pour combien de personnes ? Il me faudra combien d'oeufs ?

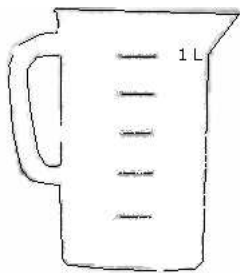
Montre comment tu réfléchis :

Tes réponses : Je peux préparer des crumbles pour personnes et il me faudra oeufs.

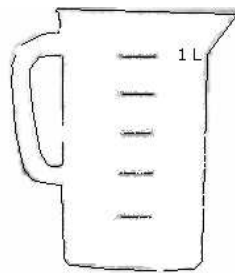
./3

5. **Colorie** le pot pour montrer qu'il contient.

2/10 litre



700 ml



0,60 litre



Complète :


0,7 litre =dl

2 ½ litre = ml


3,5 dl =ml

./6

6. **Complète.** Combien de pavés de chaque sorte faut-il pour recouvrir ce rectangle ?



.....



.....

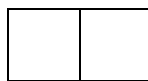


./2


7. Si le rectangle grisé vaut 36 que valent les autres rectangles ? **Complète.**



.....



.....



./2

8. Calcule combien de jours il y a entre le 21 juin 2012 et le 3 septembre 2012 (y compris ces deux jours) ?

Tes calculs

Ta réponse : Il y a

./3

9. Mon film commence à 19h25 et se termine à 20h18. Il est coupé par une séquence de 3 minutes de publicité. Combien de temps dure-t-il réellement ?

Montre ta démarche :

./4

Ta réponse : Mon film dure